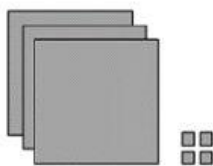


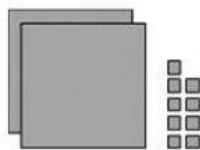
TEMA 4 – MATEMÁTICAS 2º PRIMARIA



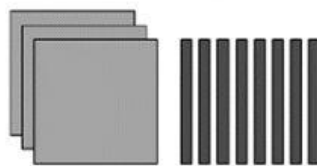
1 – RELACIONA Y ESCRIBE CADA NÚMERO:




$$200 + 90 + 5$$



$$300 + 4$$



$$200 + 9$$



$$300 + 80$$

2 – ESCRIBE EL NÚMERO ANTERIOR Y POSTERIOR:

134	135	136
	258	
	301	


	109	
	260	
	310	


3 – CUENTA Y COMPLETA


 Vértices

 Lados

 Vértices

 Lados

 Vértices

 Lados

 Vértices

 Lados

5- Calcula las SUMAS CON LLEVADAS, fíjate en el primer ejercicio.

1

	7	5
+	3	9
1	1	4

	8	7
+	4	9

	2	1
	1	3
+	4	8

6-Calcula las RESTAS CON LLEVADAS, fíjate en el primer ejercicio

2 12

	3	2
-	2	9
	0	3

3 13

	4	3
-	2	7

	3	3
-	1	8

7-RESUELVE EL PROBLEMA:

Hay 35 bolas rojas para decorar el árbol de Navidad y 18 bolas naranjas
¿Cuántas bolas rojas más que naranjas hay?

DATOS - _____ bolas rojas
_____ bolas naranjas

	3	5
-		

