



Unidad Educativa Particular "La Consolata"
Periodo Lectivo 2020 - 2021

Lección Sumativa 1 del Segundo Parcial correspondiente al
Segundo Quimestre
Asignatura: Ciencias Naturales

APELLIDOS Y NOMBRES: _____

Grado: _____

3º E.G. B

calificación

Fecha: _____

Paralelo: _____

NOTA:

- ✓ Utilice material de apoyo como cuaderno y texto.
- ✓ Contestar de acuerdo a lo aprendido.
- ✓ En caso de tener dudas comunicarse con su tutor por interno.

Indicador: Reconocer e identifica los movimientos de la tierra y las clases de eclipse.

1.- Arrastra y coloca la respuesta correcta.

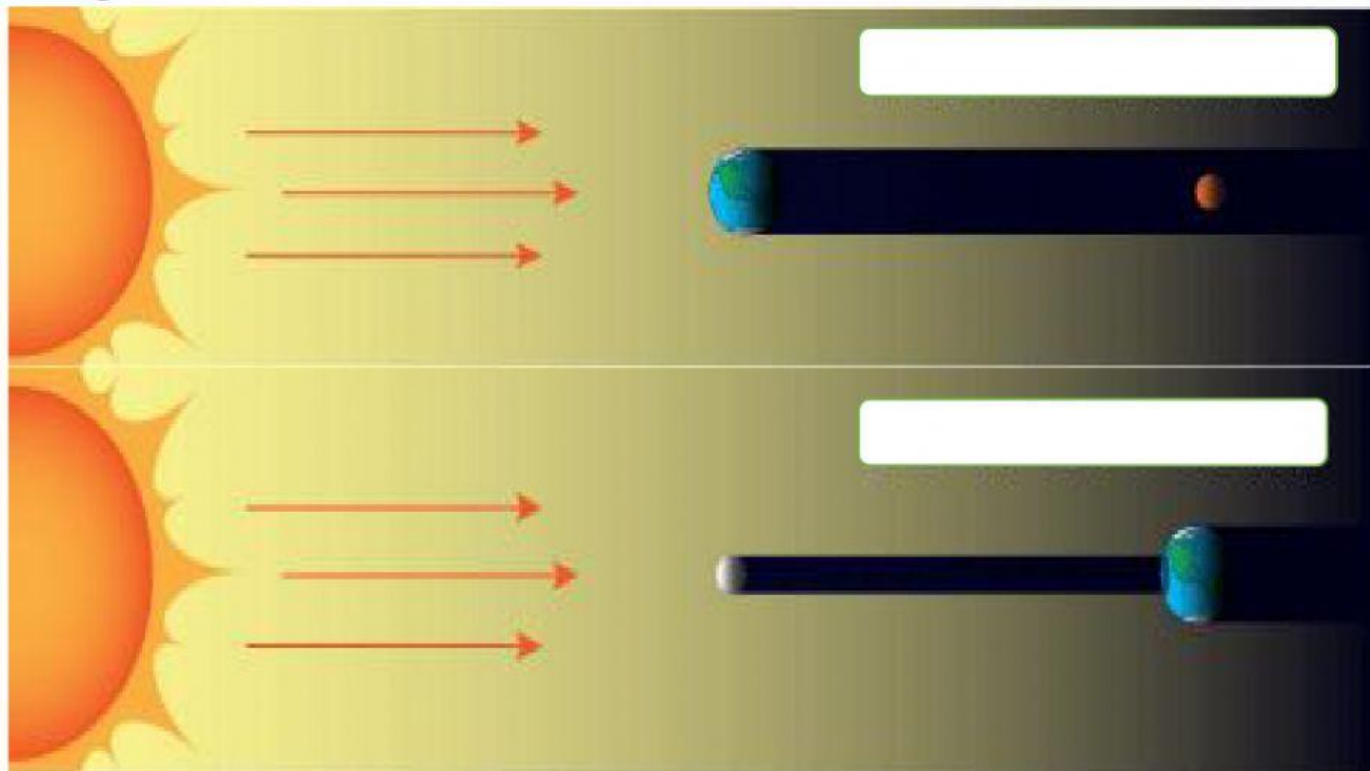
Rotación

Traslación

Eclipse lunar

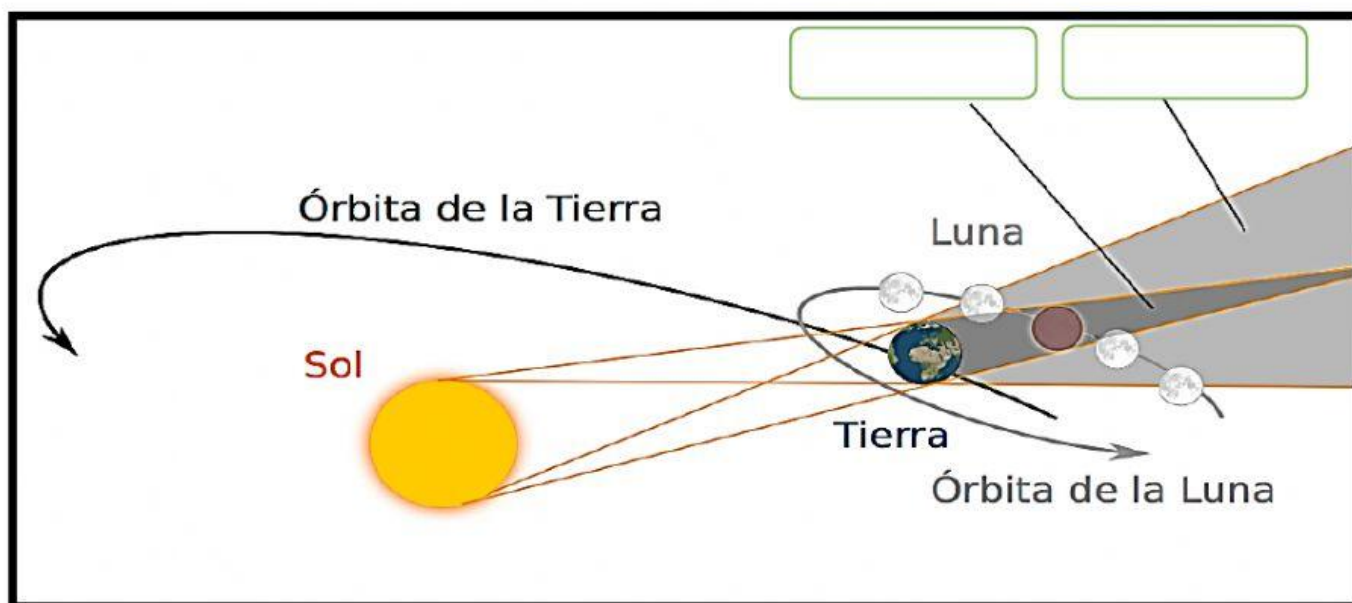
Eclipse solar

- El movimiento de de la Luna es cuando gira sobre sí misma.
- El movimiento de de la Luna es cuando gira alrededor de la Tierra.



Indicador: Reconocer la sombra y la penumbra.

2.-Selecciona la respuesta correcta.



Indicador: Identifica las fases lunares.

3.-Una según corresponda



Cuarto menauante


Luna llena

Luna nueva

Cuarto creciente

Indicador: Reconoce la clase de eclipse.


4.- Seleccione la respuesta correcta.


 Seleccione el eclipse parcial.



 Seleccione el eclipse total.

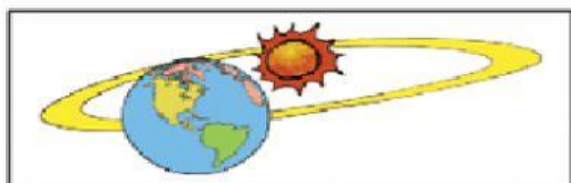


 Seleccione el eclipse anular

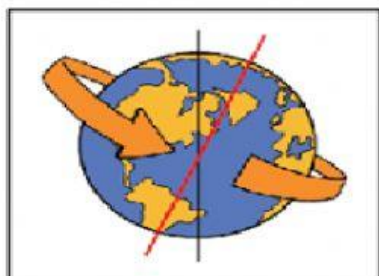


Indicador: Reconoce los movimientos de la tierra.

5.- Relaciona cada imagen con el movimiento de la Tierra que le corresponde



Movimiento
de rotación



Movimiento
de traslación

Elaborado por: Lic. Fátima Yagual	Revisado por: Lic. Julia Hernández Coordinación Académica
Fecha de entrega: 15/1/2021	Fecha de recepción: 15/1/2021