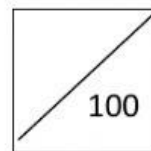




COLEGIO MONTESSORI

PRUEBA DIAGNÓSTICA DE MATEMÁTICA




Curso: 2° a 3° de primaria **Prof.** Nancy Paz Salvatierra
e-mail: nancypaz@montessori.com

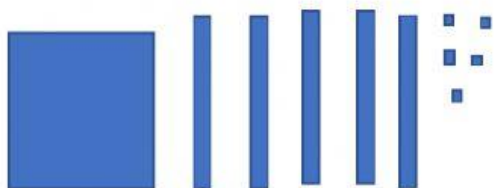
1. Arrastra el número representado:



323



155



115

2. Completa arrastrando el número anterior y posterior:

a.

	70	
--	----	--

b.

49		
----	--	--

c.

		60
--	--	----

71	50	69	59	51	58
----	----	----	----	----	----

3. Escribe los números:

	Trescientos uno
	Quinientos cincuenta y cinco
	Ciento noventa y siete

4. Resuelve las sumas y restas:

a.

$$\begin{array}{|c|c|c|} \hline 4 & 5 & 8 \\ \hline 1 & 2 & 5 \\ \hline & & \\ \hline \end{array}$$

b.

$$\begin{array}{|c|c|c|} \hline 7 & 2 & 5 \\ \hline 2 & 5 & 4 \\ \hline & & \\ \hline \end{array}$$

c.

$$\begin{array}{|c|c|c|} \hline 7 & 5 & 9 \\ \hline 5 & 8 & 7 \\ \hline & & \\ \hline \end{array}$$

5. Une con una línea la figura geométrica con su nombre:



Cuadrado

Rectángulo

Triángulo