


Nama Peserta Didik :


Nomor Absen :


Lembar Kerja Peserta Didik

Tema5 ST4 PB1

1. Peralihan dari musim kemarau ke musim hujan disebut
2. Jepang adalah negara yang memiliki musim
3. Pada bulan Maret – September di Indonesia terjadi musim
4. Garis khatulistiwa di sebut juga dengan garis
5. Kerjakanlah latihan operasi pengurangan pecahan berpenyebut sama berikut ini !

1. 
$$\frac{4}{5} - \frac{1}{5} = \frac{\dots}{\dots}$$

2. 
$$\frac{3}{5} - \frac{2}{5} = \frac{\dots}{\dots}$$

3. 
$$\frac{3}{4} - \frac{1}{4} = \frac{\dots}{\dots}$$

6. Karya dengan kain termasuk seni rupa dimensi
7. Perhatikan gambar di bawah ini ! Teknik yang digunakan ibu Edo namanya teknik aplikasi. Teknik ini menggunakan teknik dan