

## LEMBAR KERJA SISWA

### KELAS VI

1. Tujuan pelestarian elang jawa adalah ....
- A. untuk diperjualbelikan
  - B. menjaga keasrian alam
  - C. menjaga populasi elang jawa
  - D. menjadi daya tarik wisatawan

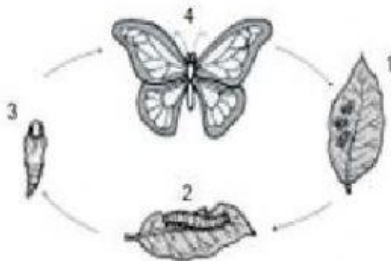
2. Perhatikan tabel berikut!

No.	Kegiatan Manusia
1.	membuang sampah di sungai
2.	melakukan pengolahan limbah
3.	menangkap ikan dengan pukat harimau
4.	melakukan ladang berpindah
5.	melakukan daur ulang sampah

Kegiatan manusia yang dapat merusak lingkungan ditunjukkan nomor ....

- A. 1, 3, dan 4
- B. 1, 3, dan 5
- C. 2, 3, dan 4
- D. 2, 3, dan 5

3. Perhatikan tabel berikut!



Hewan yang memiliki daur hidup serupa dengan gambar adalah ... .

- A. kecoa dan lebah
- B. belalang dan lalat
- C. nyamuk dan lebah
- D. nyamuk dan jangkrik

4. Perhatikan gambar berikut!



(1)



(2)



(3)



(4)

Alat musik yang dibunyikan dengan cara dipetik ditunjukkan oleh nomor ....

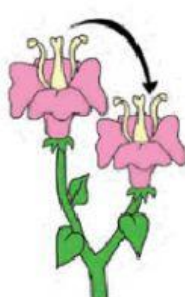
- A. (2) dan (4)
- B. (1) dan (2)
- C. (1) dan (4)
- D. (3) dan (4)

- 5. Untuk melindungi dirinya, cicak memiliki kemampuan untuk melepaskan ekornya. Kemampuan tersebut disebut juga ....
- 6. Bentuk daun teratai lebar dan tipis yang berfungsi untuk ....
- 7. Untuk mempermudah berjalan di atas salju, kaki beruang kutub mempunyai bentuk ....
- 8. Pohon bambu melindungi diri dengan cara ....
- 9. Pohon randu .... untuk mengurangi penguapan di musim kemarau.

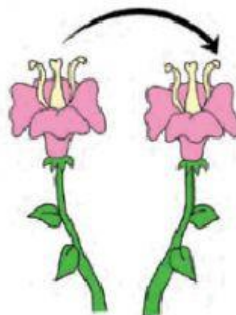
10. Jelaskan macam-macam penyerbukan pada gambar di bawah ini!




(a)



(b)



(c)



(d)

Jawab : \_\_\_\_\_  
 \_\_\_\_\_

11. Jodohkan gambar hewan dengan cara beradaptasi yang tepat!

a. Rhizoma



b. Spora



c. Geragih



12.