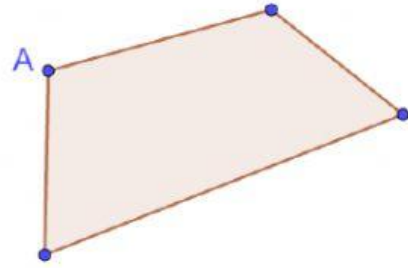
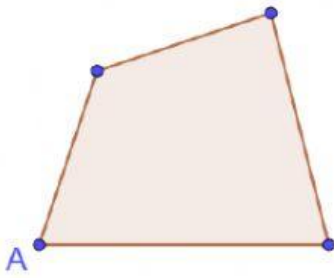
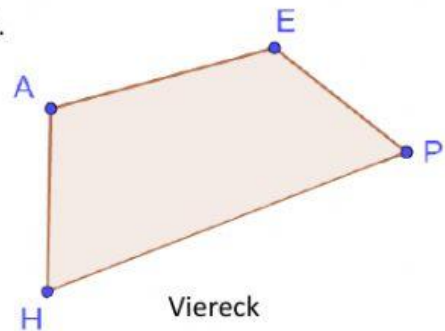
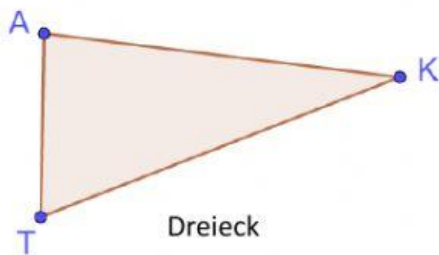


## Vielecke - Namen und Diagonalen

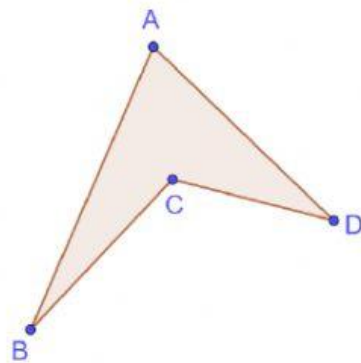
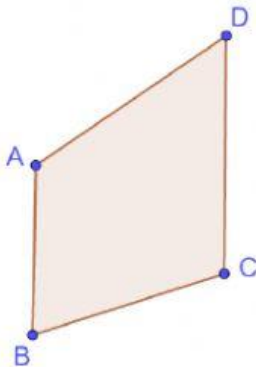
**Aufgabe 1:** Beschrifte die Eckpunkte der Vierecke ABCD.



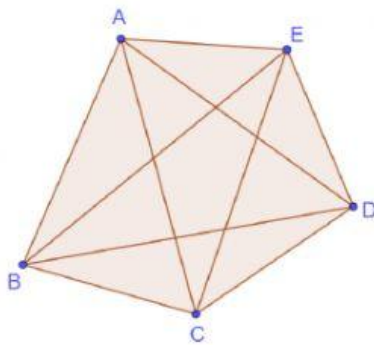
**Aufgabe 2:** Benenne die Vielecke. Beginne mit dem Punkt A.



**Aufgabe 3:** Zeichne alle Diagonalen ein.



**Aufgabe 4:** Ordne alle Stecken des Vielecks richtig in Tabelle ein.

 $\overline{AB} \quad \overline{BD}$  $\overline{AC} \quad \overline{BE}$  $\overline{AD} \quad \overline{CD}$  $\overline{AE}$        $\overline{CE}$  $\overline{BC} \quad \overline{DE}$ [illegible]