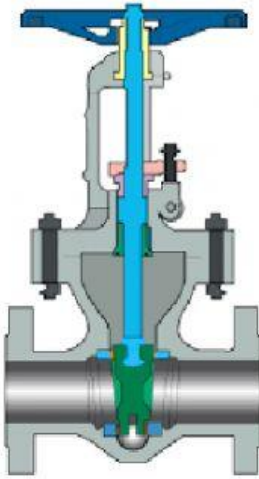
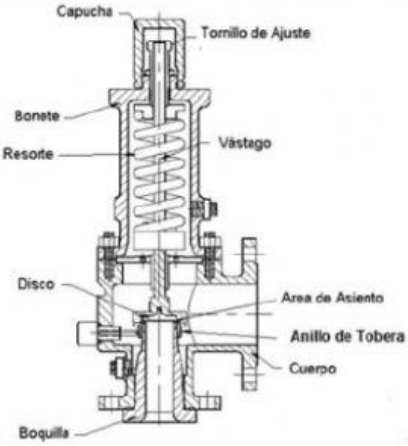


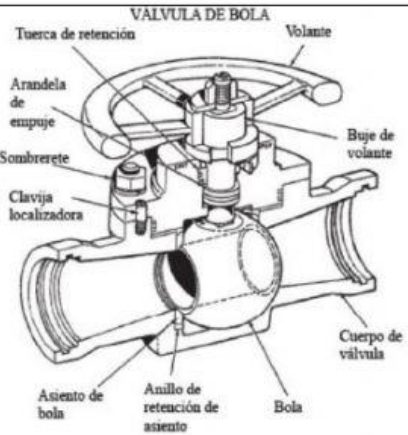
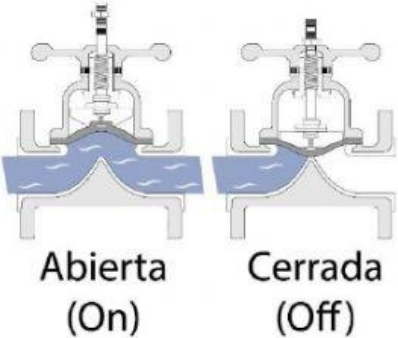


IDENTIFICA LAS VÁLVULAS I

VENTOSA TRIFUNCIONAL

VENTOSA GRAN ORIFICIO

VENTOSA PURGADOR

VÁLVULA RETENCIÓN
MARIPOSA

VÁLVULA RETENCIÓN ASCENDENTE

VÁLVULA RETENCIÓN OSCILANTE

VÁLVULA DE GUILLOTINA

VÁLVULA REGULADORA DE
PRESIÓN

VÁLVULA DE AGUJA

VÁLVULA DE GLOBO

VÁLVULA DE APRIETE

VÁLVULA DE DIAFRAGMA

VÁLVULA DE ESFERA

VÁLVULA DE MARIPOSA

VÁLVULA DE MACHO

VÁLVULA DE ASIENTO

VÁLVULA DE ASIENTO INCLINADO

VÁLVULA DE COMPUERTA