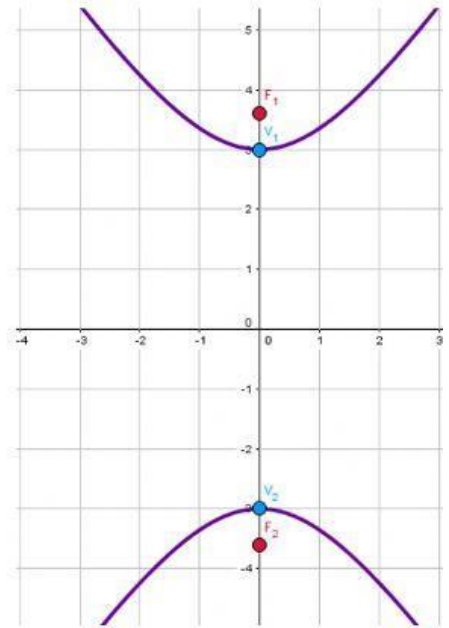
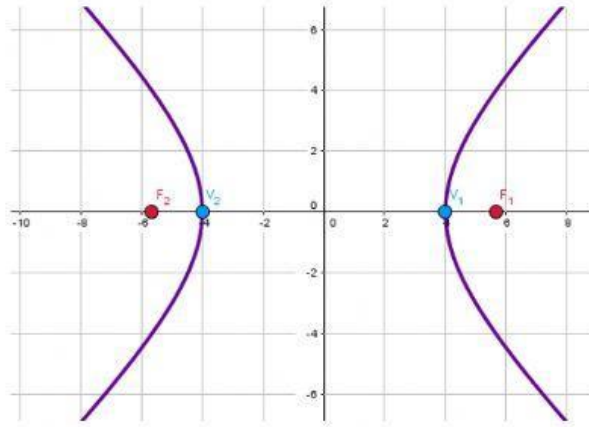
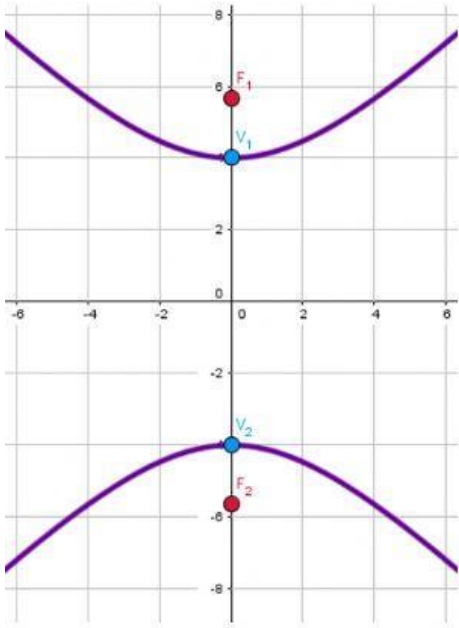


# Ecuación canónica de a hipérbola

- Sea la hipérbola que tiene por ecuación  $\frac{y^2}{9} - \frac{x^2}{4} = 1$  ¿Cuál es su representación gráfica?



- Sea la hipérbola que tiene por ecuación  $\frac{x^2}{4} - \frac{y^2}{9} = 1$  ¿Cuál es su representación gráfica?

