

ورقة عمل رقم 2

اليوم:

صف:

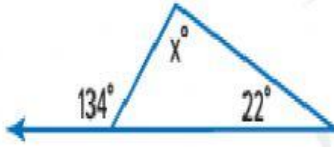
الموضوع / زوايا المثلث الداخلية

اسم الطالب:

اكتب الإجابة الصحيحة في مكانها الصحيح

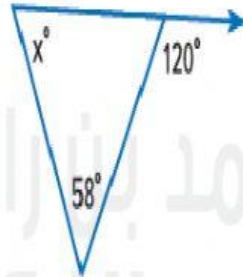
أوجد قيمة  $x$  في كل مثلث. (المثال 3)

5. \_\_\_\_\_




$x = \dots\dots\dots$

6. \_\_\_\_\_



$x = \dots\dots\dots$

7. \_\_\_\_\_



$x = \dots\dots\dots$