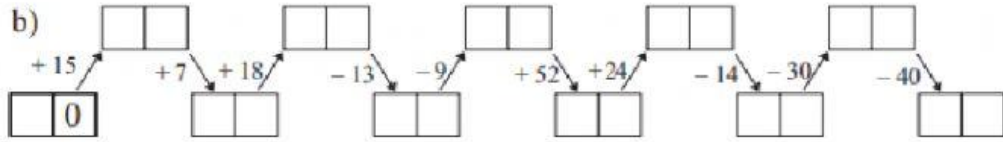
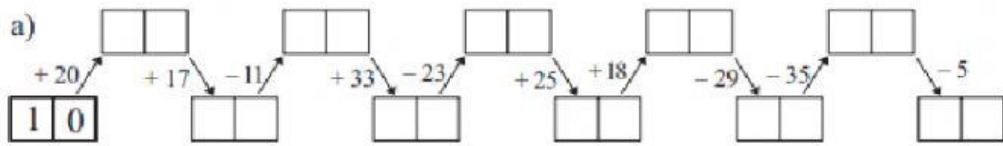
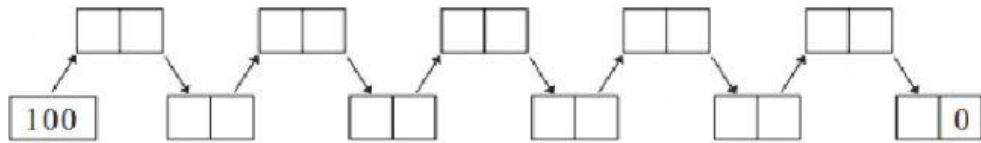


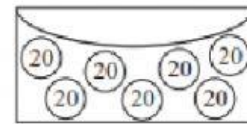
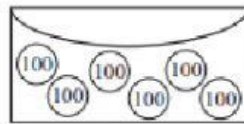
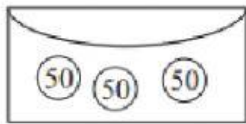
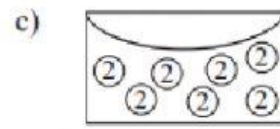
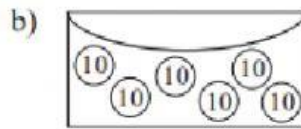
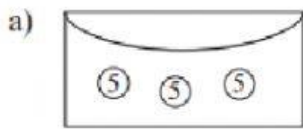
Haz lo que las flechas te dicen. Encuentra los números que faltan.



c) Crea tus propias operaciones para llegar al 0 a partir del 100.



¿Cuál es el valor de cada sobre? Escribe una multiplicación abajo de cada dibujo.



Ignacio tenía 37 canicas. Ganó 11 canicas de cada uno de sus 3 amigos.

¿Cuántas canicas tiene ahora Ignacio?

canicas

### RETO

¡Trata de resolver este difícil puzzle! Dibuja los dominós en el cuadrado de tal forma que cada, columna y diagonal tenga el mismo número de puntos.

