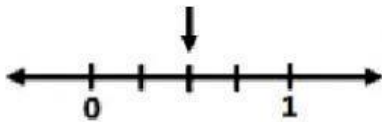


FRACCIONES EN LA RECTA NUMÉRICA

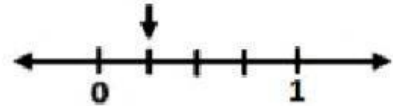
1.- Observa el video "ubicar fracción en la recta numérica" para tener una mejor comprensión de la actividad.



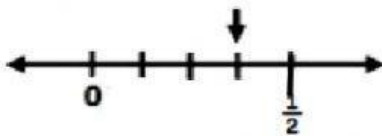
2.- Observa las siguientes rectas y escribe en fracción y decimal, el punto de la recta que señalan las flechas.



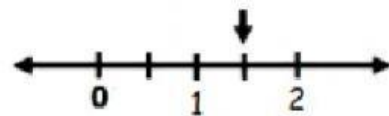
Fracción _____



Fracción _____




Fracción _____



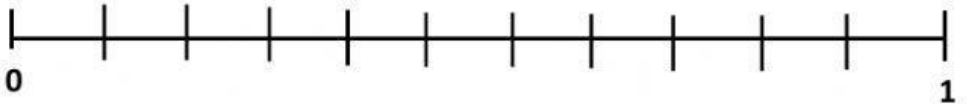
Fracción _____

3.-Arrastra cada fracción hacia el lugar que corresponda en la recta numérica.

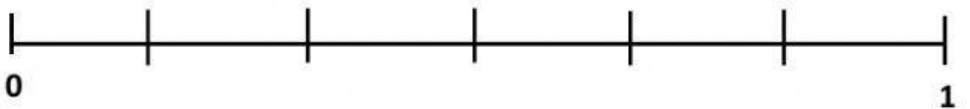
$$\frac{3}{7}$$




$$\frac{10}{11}$$



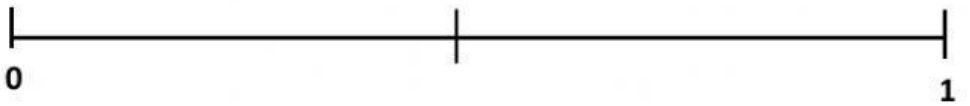
$$\frac{5}{6}$$



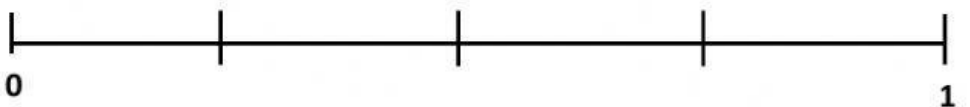
$$\frac{4}{5}$$



$$\frac{1}{2}$$



$$\frac{3}{4}$$



$$\frac{2}{3}$$

