

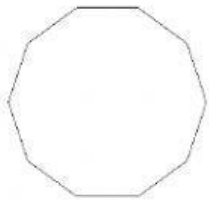
# Polígonos regulares e irregulares

## RECUERDA

Un polígono es regular cuando todos sus lados y todos sus ángulos son iguales.


Cuando sus lados o sus ángulos son distintos se trata de un polígono irregular.

Di si estos polígonos son regulares o irregulares. Después escribe cómo se llaman según el número de lados que tienen.



---

---



---

---



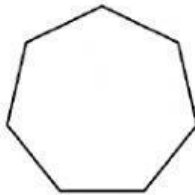
---

---



---

---




---

---



---

---



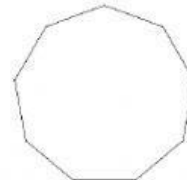
---

---




---

---




---

---



---

---



---

---



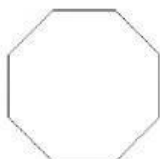
---

---



---

---



---

---



---

---