


RECUERDA:
- TRIÁNGULO: 3 lados
- CUADRILÁTERO: 4 lados
- PENTÁGONO: 5 lados
- HEXÁGONO: 6 lados


Marca la casilla donde está la figura correcta

a. ¿Cuál de estos polígonos es un pentágono?



1. ☐ 2. ☐ 3. ☐ 4. ☐

b. ¿Cuál de estos polígonos es un triángulo?




1. ☐ 2. ☐ 3. ☐ 4. ☐

c. ¿Cuál de estos polígonos es un cuadrilátero?



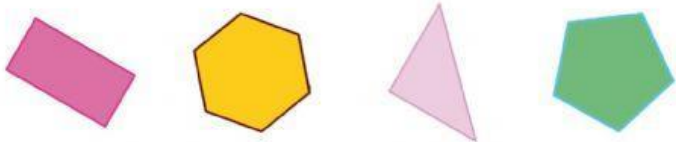
1. ☐ 2. ☐ 3. ☐ 4. ☐

d. ¿Cuál de estos polígonos es un hexágono?



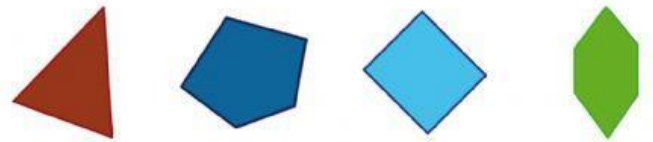
1. ☐ 2. ☐ 3. ☐ 4. ☐

e. ¿Cuál de estos polígonos es un pentágono?



1. ☐ 2. ☐ 3. ☐ 4. ☐

f. ¿Cuál de estos polígonos es un hexágono?



1. ☐ 2. ☐ 3. ☐ 4. ☐