




ESTUDIOS SOCIALES


ANÁLISIS FINAL DEL SEGUNDO PARCIAL

1. Observe los diferentes lugares turísticos del Ecuador y una con líneas a la región que pertenece.




REGIÓN
SIERRA

REGIÓN
GALAPÁGOS



REGIÓN
ORIENTE

REGIÓN
COSTA



2. Seleccione a qué sector económico pertenece cada afirmación.

Los productos naturales y la materia prima pertenecen al sector.

Primario

Secundario

Terciario

De él se obtiene bienes y servicios.

Primario

Secundario

Terciario

De él se obtiene productos elaborados.

Primario

Secundario

Terciario

Se desarrolla en las fábricas y talleres artesanales.

Primario

Secundario

Terciario

El turismo forma parte de este sector.

Primario

Secundario

Terciario

Los productos se obtienen directamente de la naturaleza.

Primario

Secundario

Terciario

3. Observe las imágenes y elija a qué sector hacen referencia.



4. Lea las siguientes normas de educación vial y marque el casillero correcto.

- Hay que mirar a ambos lados antes de cruzar la calle.

SÍ NO

- Debemos utilizar el cinturón de seguridad al ir en un automóvil.

SÍ NO

- Debemos cruzar por cualquier parte de la calle.

SÍ NO

- Existen señales de tránsito solo para los peatones.

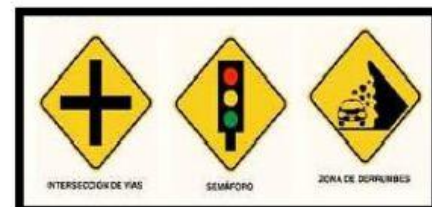
SÍ NO

5. Observe las diferentes señales de tránsito y únalas según su clasificación.

PREVENTIVAS

REGLAMENTARIA

INFORMATIVAS



6. Identifique las imágenes y coloque cada medio de transporte en el lugar por donde se desplaza.

