

MATEMÁTICAS

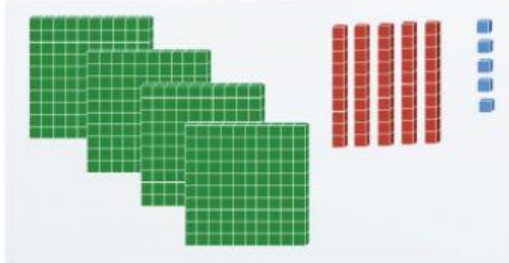
1. Busca el número que representan los bloques, colócalo y escribe su anterior y posterior.

377

455

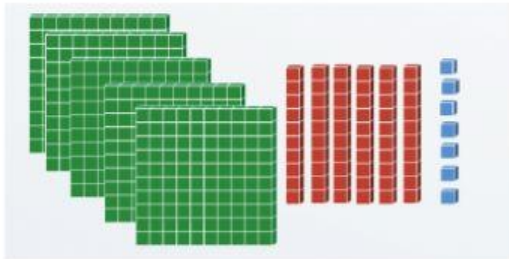
249

567



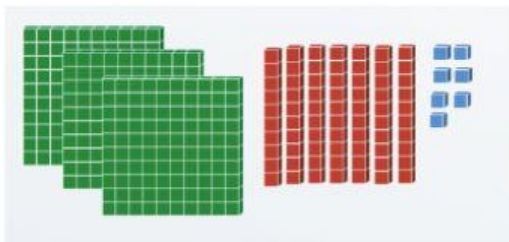
Anterior

Posterior



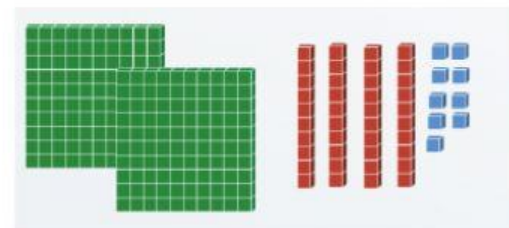
Anterior

Posterior



Anterior

Posterior



Anterior

Posterior

2. Ordena los números de los bloques del ejercicio anterior de menor a mayor.

 < < < 