

MIS PROBLEMAS DE MATEMÁTICAS

1. Silvia tiene 15 caramelos y le da 4 a su hermano. ¿Cuántos caramelos le quedan a Silvia?

Datos:

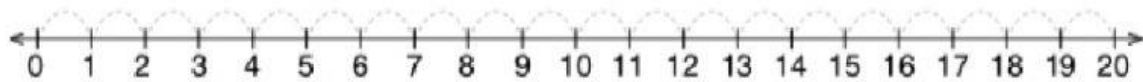
Operación:

Tiene caramelos.

=

Da caramelos.

Recta numérica



Solución: Le quedan caramelos.



2. Juan y Gema tienen 12 coches. Si se les pierden 5 coches, ¿cuántos les quedan?

Datos:

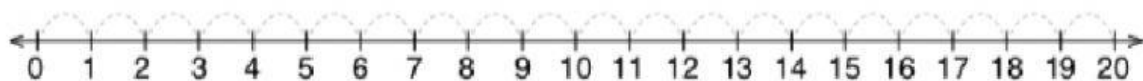
Operación:

Tienen coches.

=

Pierden coches.

Recta numérica



Solución: Le quedan coches.



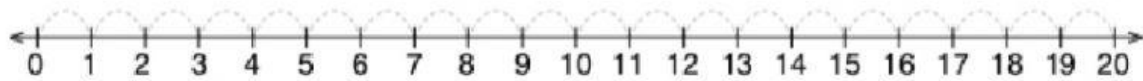
3. En mi monedero llevo 10 euros. Andando por la calle me encuentro una moneda de 2 euros. ¿Cuánto dinero tengo ahora en el monedero?

Datos:

Operación:

Tengo euros. =
Encuentro euros.

Recta numérica



Solución: Ahora tengo euros.



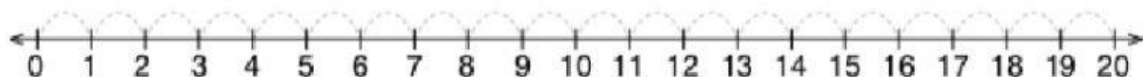
4. En el árbol hay 5 gorriones. Luego llegan 2 cuervos y más tarde otras 6 palomas. ¿Cuántas aves hay ahora en el árbol?

Datos:

Operación:

Hay gorriones. =
Llegan cuervos.
Llegan palomas.

Recta numérica



Solución: Ahora hay aves.

