



RESOLUCIÓN DE PROBLEMAS



MÍA TENÍA 3 DINOSAURIOS.



PEPE LE DA 4 DINOSAURIOS MÁS



¿CUÁNTOS DINOS TIENE MÍA?

1º. DATOS





MÍA TENÍA DINOSAURIOS.



PEPE LE DA DINOSAURIOS.

2º. OPERACIÓN



3º. SOLUCIÓN



MÍA TIENE DINOSAURIOS.