


1. Une para formar la serie del 0 al 19.

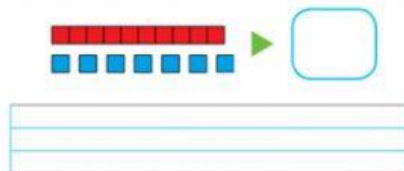



2. Escribe cómo se lee cada número.

8 ► 9 ► 11 ►

14 ► 15 ►

3. Escribe el número y cómo se lee.



4. ¿Qué número hay en cada casilla?

