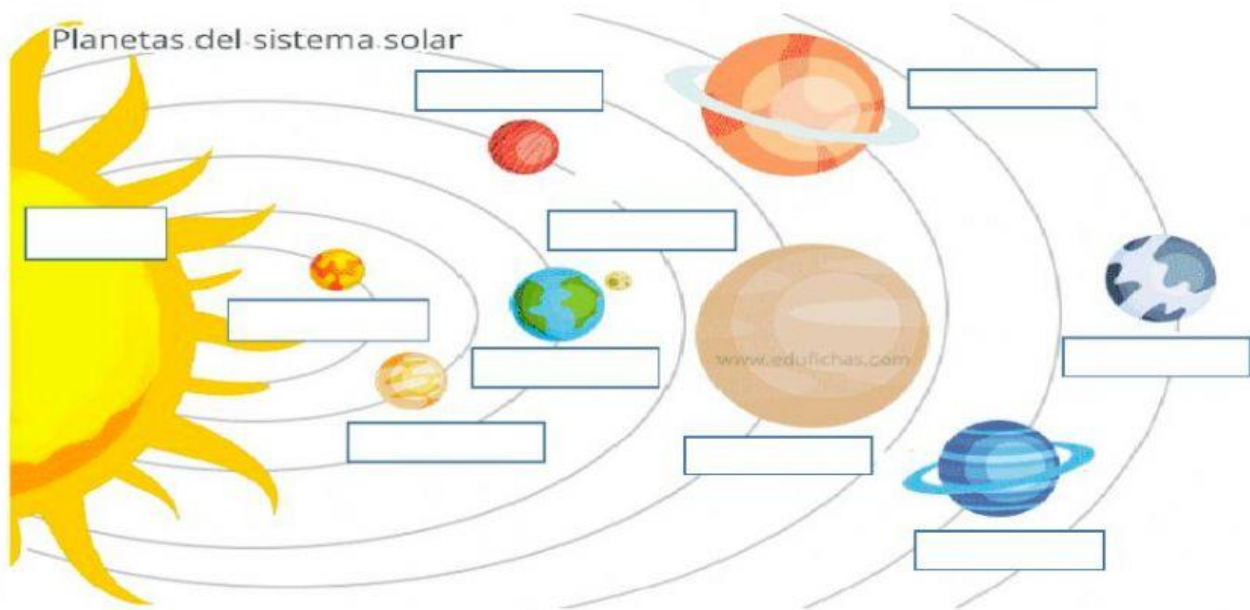


## FICHA REPASO 1<sup>ER</sup> TRIMESTRE CIENCIAS SOCIALES

1. Completa el sistema solar sus nombres.

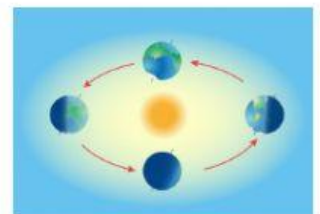


Saturno Venus Tierra Mercurio Júpiter Luna Neptuno Marte Urano Sol

2. Completa el siguiente resumen.

La Tierra tarda \_\_\_\_\_ en dar una vuelta entera al Sol, dando lugar a las 4 estaciones del año que son:


- El invierno, los días son fríos y más \_\_\_\_\_.
- El verano, los días son más \_\_\_\_\_ y más largos.
- La primavera donde florecen las flores, y el otoño donde se caen las hojas de los árboles



La Tierra tarda \_\_\_\_\_ en dar una vuelta sobre sí misma, dando lugar al \_\_\_\_\_ y a la noche.



La Luna tiene 4 fases que son:



Luna \_\_\_\_\_ Cuarto \_\_\_\_\_ Luna \_\_\_\_\_ Cuarto \_\_\_\_\_

3. Rodea las oraciones que son correctas.

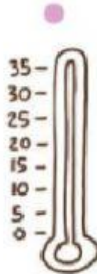
- La atmósfera no rodea la Tierra.
- La atmosfera protege a la Tierra de la fuerza del Sol.
- En la atmosfera se encuentra el aire que contiene gases como el oxígeno.
- En la atmosfera no se producen los fenómenos atmosféricos.

4. Une cada aparato con el dato que recoge. Pon debajo el nombre del aparato

humedad

viento

temperatura



---

---

---

---

---

---

5. Une cada icono con el tiempo que representa.

