

1. Calcula estas sumas y restas. Algunas son con llevada, fíjate bien.

$\begin{array}{r} 82 \\ + 17 \\ \hline \end{array}$	$\begin{array}{r} 50 \\ + 39 \\ \hline \end{array}$	$\begin{array}{r} 39 \\ + 16 \\ \hline \end{array}$	$\begin{array}{r} 48 \\ 10 \\ + 7 \\ \hline \end{array}$
$\begin{array}{r} 95 \\ - 43 \\ \hline \end{array}$	$\begin{array}{r} 38 \\ - 20 \\ \hline \end{array}$	$\begin{array}{r} 72 \\ - 36 \\ \hline \end{array}$	$\begin{array}{r} 50 \\ - 15 \\ \hline \end{array}$

2. Resuelve este problema.

Ana y su hermano pequeño han ido al campo a recoger manzanas. Ella ha recogido 48 manzanas y él 23. ¿Cuántas manzanas ha recogido Ana más que su hermano?





Datos y

Operación

○		

Solución Ana

3. Selecciona la opción correcta en cada caso: círculo o circunferencia.



¡Buen trabajo!