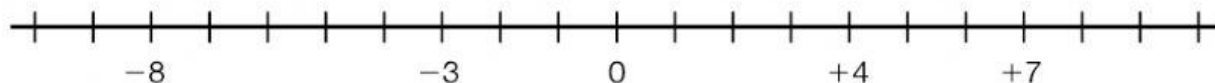


Comparación de números enteros

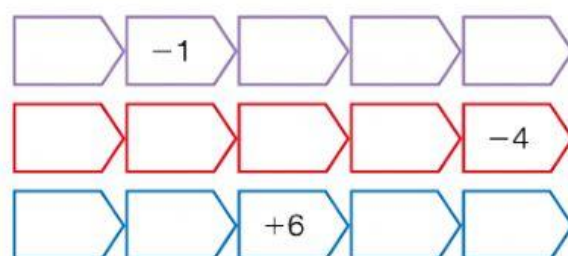
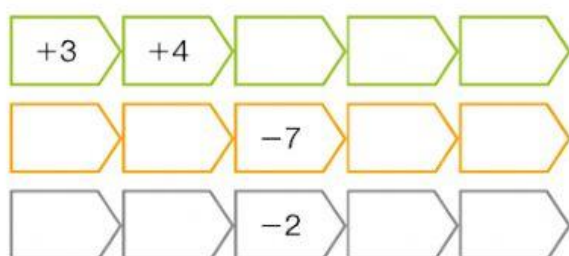
- 1** Completa las oraciones y después escribe los números que faltan en la recta entera.

Los números positivos están a la _____ del 0.

Los números negativos están a la _____ del 0.



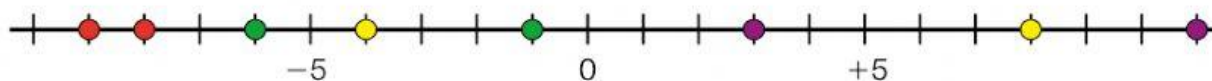
- 2** Completa cada serie de números enteros consecutivos.



- 3** Observa la recta entera de la actividad 1 y completa.

- -6 es menor que -4 porque está más a la izquierda.
- -2 es _____ que -8 porque está _____
- +6 es _____ que +4 porque está _____
- -3 es _____ que +6 porque está _____

- 4** Observa y contesta.



- Los puntos rojos representan los números _____ y _____
El número mayor de los dos es _____
- Los puntos verdes representan los números _____ y _____
El número menor de los dos es _____
- Los puntos amarillos representan los números _____ y _____
El número mayor de los dos es _____
- Los puntos morados representan los números _____ y _____
El número menor de los dos es _____