

REPASO MATEMÁTICAS

ACTIVIDAD 1

1. Escribe el número con cifras:

Dos mil trescientos cuarenta y nueve	2	3	4	9
Dos mil trescientos cuarenta				
Dos mil trescientos nueve				
Dos mil cuarenta y nueve				
Dos mil nueve				
Dos mil				



2. Escribe el número con palabras.

Dos mil trescientos cuarenta y nueve	2	3	4	9
	2	2	5	0
	2	2	0	5
	2	0	0	5
	2	4	2	3
	3	0	0	0

3. Con ayuda de la tabla, rellena los espacios vacíos. Fíjate en el ejemplo.

ESTÁS EN EL	LLEGAS AL	SALTOS	RESTO	TOTAL
66	17	4	9	49
75	12			
52	16			
80	29			

4. Completa la siguiente tabla. Fíjate en el ejemplo.

En la pastelería			
7€ 	3 tartas cuestan 3X7=21	8 tartas cuestan	9 tartas cuestan
 8€	6 bandejas de pasteles cuestan	8 bandeja de pasteles cuestan	11 bandeja de pasteles cuestan

5. Completa la tabla siguiente fíjate en el ejemplo.

Número	Centenas	Decenas	Unidades
600	6	60	600
400			
500			
200			
100			

REPASO MATEMÁTICAS

ACTIVIDAD 2

6. Escribe el número con cifras:

Tres mil cuatrocientos dieciocho	3	4	1	8
Tres mil cuatrocientos ocho				
Tres mil cuarenta				
Tres mil ciento cuarenta y uno				
Tres mil				



7. Escribe el número con palabras.

Tres mil quinientos veintiocho	3	5	2	8
	3	0	2	5
	3	0	0	5
	3	8	2	5
	3	8	0	0
	4	0	0	0

8. Con ayuda de la tabla, rellena los espacios vacíos. Fíjate en el ejemplo.

ESTÁS EN EL	LLEGAS AL	SALTOS	RESTO	TOTAL
65	21	4	4	44
18	79			
86	17			
32	89			

9. Completa la siguiente tabla. Fíjate en el ejemplo.

En la pastelería			
6€ 	3 tartas cuestan 3X6=18	8 tartas cuestan	9 tartas cuestan
 4€	6 bandejas de pasteles cuestan	8 bandeja de pasteles cuestan	11 bandeja de pasteles cuestan

10. Completa la tabla siguiente fíjate en el ejemplo.

Número	Centenas	Decenas	Unidades
600	6	60	600
300			
700			
800			
900			