

# Numerele naturale de la 0 la 100

1 Ajută-i pe copii să-și găsească fiecare căciula. Scrie în pătrate numerele corespunzătoare:

Căciula mea are un număr format doar din zeci, iar la unități 0.

Pe căciula mea este scris un număr impar, cuprins între 48 și 50.

Un număr format din două cifre identice este scris pe căciula mea.

Pe căciula mea am scris cel mai mic număr par cuprins între 50 și 60.

Pe căciula mea am scris cel mai mare număr par cuprins între 70 și 80.

Pe căciula mea am scris cel mai mare număr impar.

2 Marchează cu X numerele pare sau impare.

Numărul	31	20	74	43	82	69	95	56	57	58
par		X								
impar	X									

3 Scrie răsturnatele numerelor date.

$45 \rightarrow \begin{array}{|c|c|} \hline & \\ \hline \end{array}$

$73 \rightarrow \begin{array}{|c|c|} \hline & \\ \hline \end{array}$

$82 \rightarrow \begin{array}{|c|c|} \hline & \\ \hline \end{array}$

$91 \rightarrow \begin{array}{|c|c|} \hline & \\ \hline \end{array}$

$68 \rightarrow \begin{array}{|c|c|} \hline & \\ \hline \end{array}$

$29 \rightarrow \begin{array}{|c|c|} \hline & \\ \hline \end{array}$

4 Descompune următoarele numere în zeci și unități.

$42 = \begin{array}{|c|c|} \hline 4 & 2 \\ \hline \end{array} + \begin{array}{|c|} \hline 2 \\ \hline \end{array}$

$99 = \begin{array}{|c|c|} \hline & \\ \hline \end{array} + \begin{array}{|c|} \hline \\ \hline \end{array}$

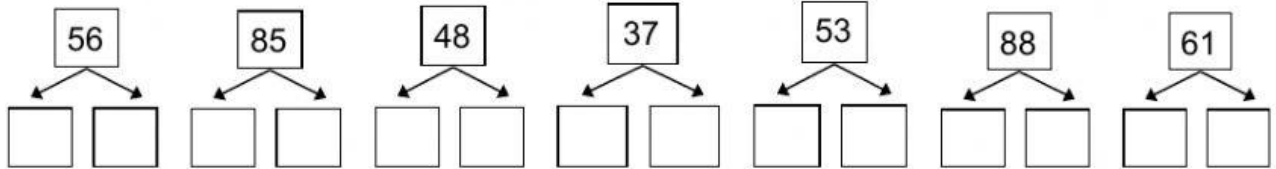
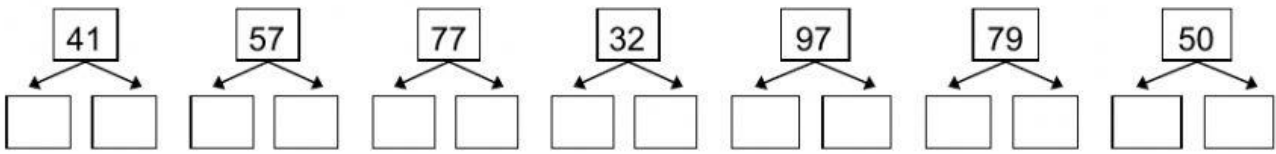
$48 = \begin{array}{|c|c|} \hline & \\ \hline \end{array} + \begin{array}{|c|} \hline \\ \hline \end{array}$

$86 = \begin{array}{|c|c|} \hline & \\ \hline \end{array} + \begin{array}{|c|} \hline \\ \hline \end{array}$

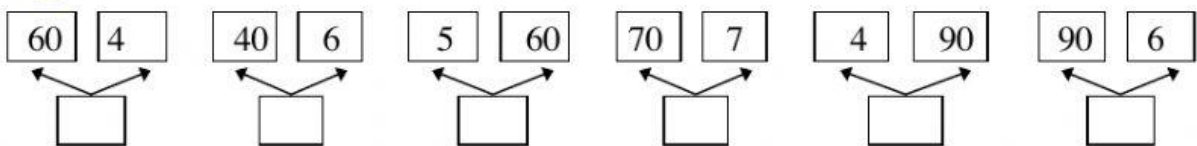
$83 = \begin{array}{|c|c|} \hline & \\ \hline \end{array} + \begin{array}{|c|} \hline \\ \hline \end{array}$

$37 = \begin{array}{|c|c|} \hline & \\ \hline \end{array} + \begin{array}{|c|} \hline \\ \hline \end{array}$

1 Descompune numerele în zeci și unități.



2 Compune numere formate din zeci și unități.



3 Scrie numerele ca sumă de zeci și unități:

$39 = 30 + 9$

$67 = \underline{\hspace{2cm}}$

$89 = \underline{\hspace{2cm}}$

$43 = \underline{\hspace{2cm}}$

$76 = \underline{\hspace{2cm}}$

$92 = \underline{\hspace{2cm}}$

$65 = \underline{\hspace{2cm}}$

$80 = \underline{\hspace{2cm}}$

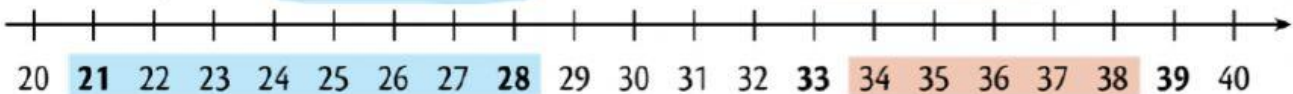
$99 = \underline{\hspace{2cm}}$



Scriem șiruri de numere!

de la 21 până la 28

cuprinse între 33 și 39



4 Scrie șirurile de numere cerute:

a) de la 49 până la 55;

de la 84 până la 90;

de la 37 până la 42.

b) cuprinse între 60 și 70;

cuprinse între 94 și 100;

cuprinse între 25 și 32.

a)

\_\_\_\_\_  
\_\_\_\_\_  
\_\_\_\_\_

b)

\_\_\_\_\_  
\_\_\_\_\_  
\_\_\_\_\_