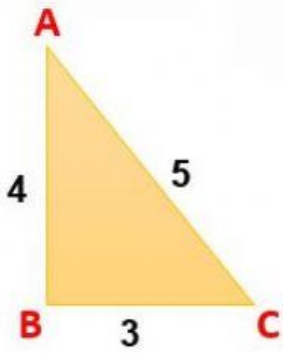
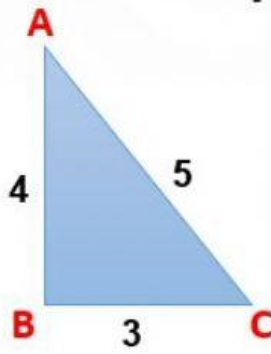


التهيئة

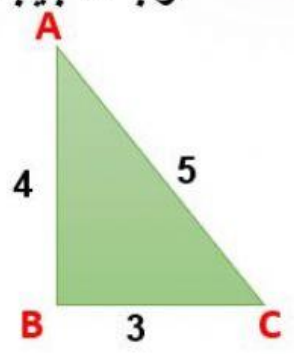
أوجد الجيب للزوايا التالية:



$$\sin A = \text{ — }$$



$$\sin B = \text{ — }$$



$$\sin C = \text{ — }$$