




¿Cuántas frutas hay? Las contamos y las unimos con una línea con su número correspondiente.



4

1

2

5

3