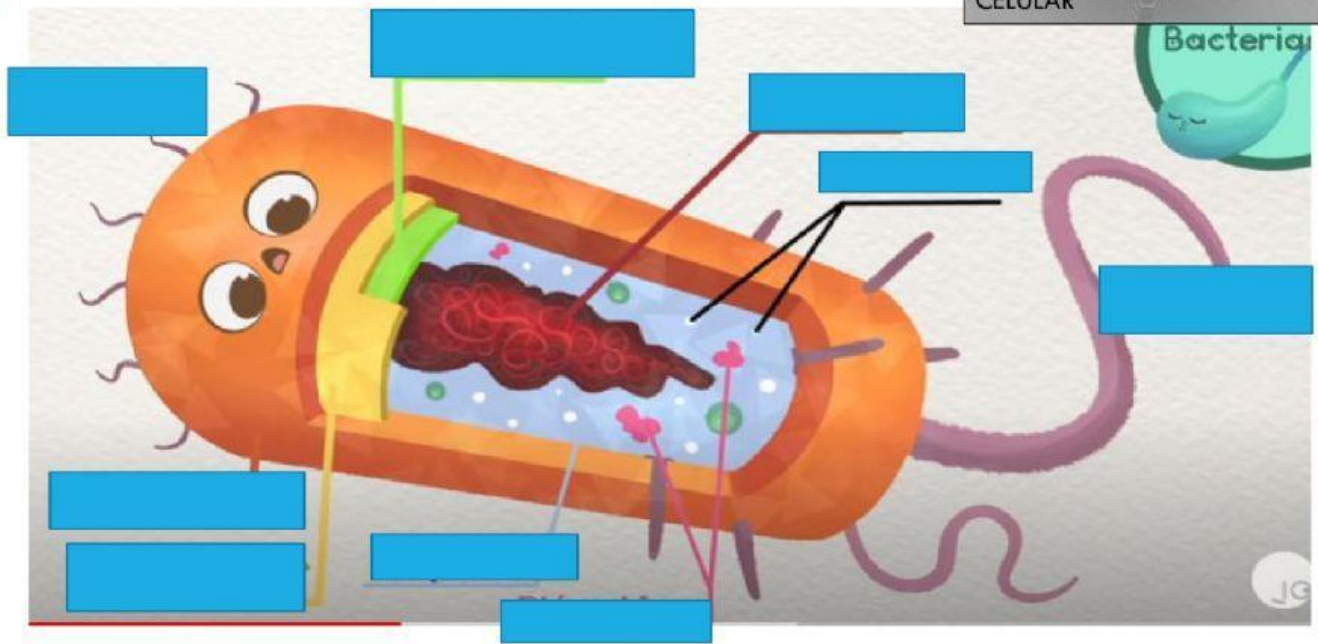


TALLER DE LAS CCN4: LAS BACTERIAS

NOMBRE:
CURSO:
FECHA:

ELEGIR LAS PARTES DE LA BACTERIA

CILIOS, FLAGELO,
ADN, RIBOSOMAS,
MEMBRANA, CAPSULA,
CITOPLASMA, PARED
CELULAR



Unir con linea las partes de las bacterias

1

CAPSIDE

2

ADN

3

Ribosomas

4

Membrana

a

Produce proteínas

b

Capa externa que recubre a la bacteria


c

Materia genético que saca copias y permite reproducción de bacterias

d

Envoltura de la membrana que recubre a la bacteria

ENUMERE LAS CARACTERÍSTICAS DE LAS BACTERIAS

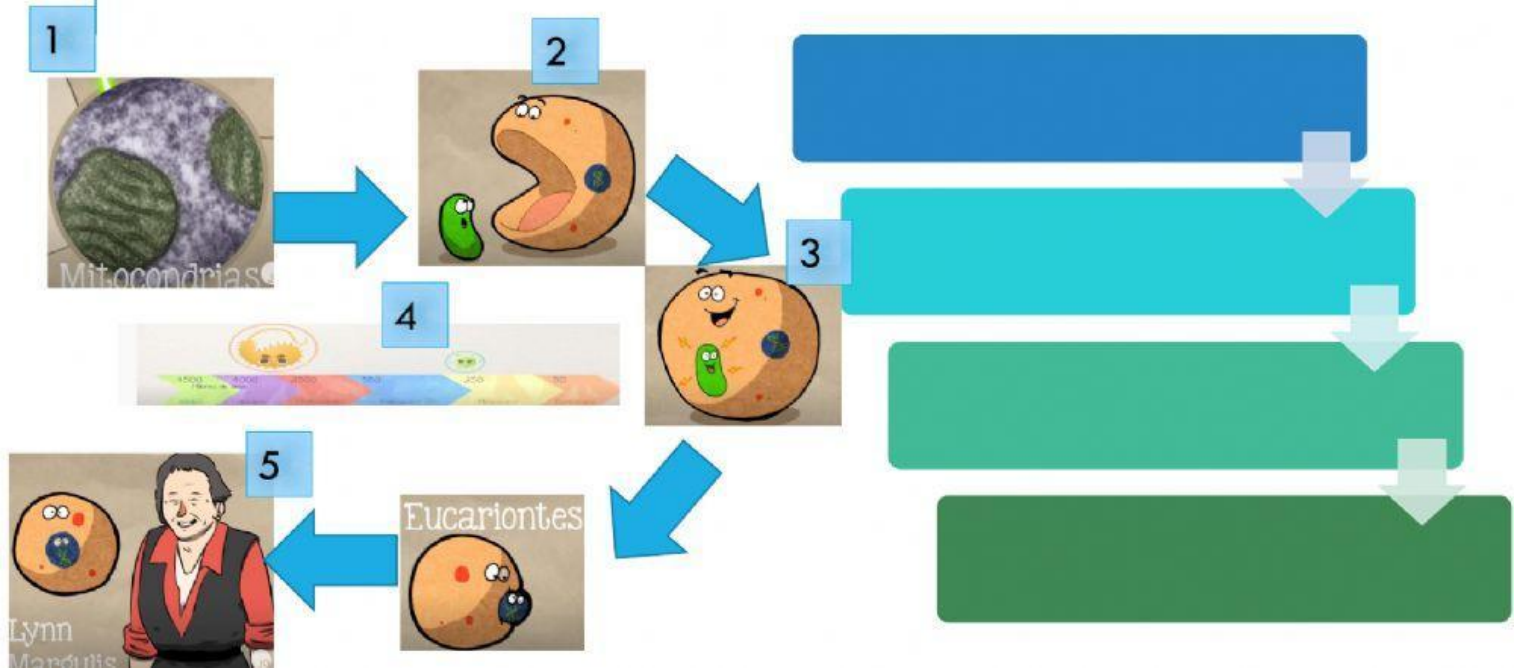


ESCOJA LAS UTILIDADES DE LA BACTERIAS

- ☐ ☐
- ☐ ☐
- ☐ ☐



ESCOJA LOS EVENTOS PARA EXPLICAR LA EVOLUCION DE LAS BACTERIAS



ESCOJA EL PERSONAJE QUE SE RELACIONA CON LAS BACTERIAS



UNIR CON LINEA SOBRE LA HISTORIA DE LAS BACTERIAS

1

Antón Van
Leeuwenhoek

2

Christian Gottfried
Ehrenberg

3

Pasteur

4

Koch

a

Demostó la presencia de microorganismos "Bacterias" en la levadura y alcohol etílico

b

Observo en el microscopio a las bacterias en el microscopio a los denomino "animalitos"

c

Las bacterias las nombra "Bacterion" del griego que significa "bastocito"

d

Identifico a las bacterias de la tuberculosis, peste bubónica, cólera, rabia

ESCOGER LAS BACTERIAS QUE CORRESPONDE AL ESQUEMA

TYPES OF BACTERIA

