




LEMBAR KERJA SISWA 1
TEKANAN ZAT PADAT DAN CAIR

Mari kita saksikan video berikut !



Hubungkan pertanyaan berikut dengan jawaban yang benar !

1. "Setiap benda yang dicelupkan ke dalam zat cair akan dipengaruhi gaya tekan ke atas yang besarnya sama dengan berat zat cair yang akan dipindahkan" adalah bunyi dari hukum			kecil
2. Benda bisa terapung karena memilikiyang lebih besar dibandingkan berat benda			besar
3. Untuk bisa mengapung.....kapal harus lebih rendah dibandingkan air			Kerapatan
4. Tekanan yang dihasilkan oleh zat cair disebut dengan....			Massa jenis
5. Semakin luas bidang tekan maka semakin.....tekanan yang dihasilkan			Archimedes
			Gaya apung
			Hidrostatik