



Haz click en la opción correcta

Para una fiesta de cumpleaños, Sandra tiene 25 globos y Cristina 20, ¿Cuántos globos tienen entre las dos?

$25 + 20$

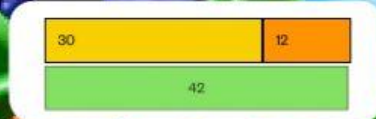


$25 - 20$



Entre Sergio y Carlos han inflado 30 globos. Si Sergio ha inflado 12, ¿cuántos ha inflado Carlos?

$30 + 12$

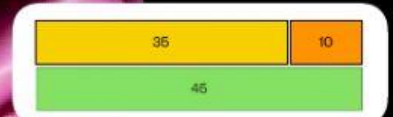


$30 - 12$

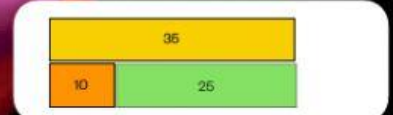


Al principio de la fiesta había 35 globos inflados. Si se han pinchado 10, ¿cuántos quedan hinchados?

$35 + 10$



$35 - 10$



Hay 6 globos verdes. De color rojo hay 2 más que de color verde. ¿Cuántos globos rojos hay?

$6 + 2$



$6 - 2$

