

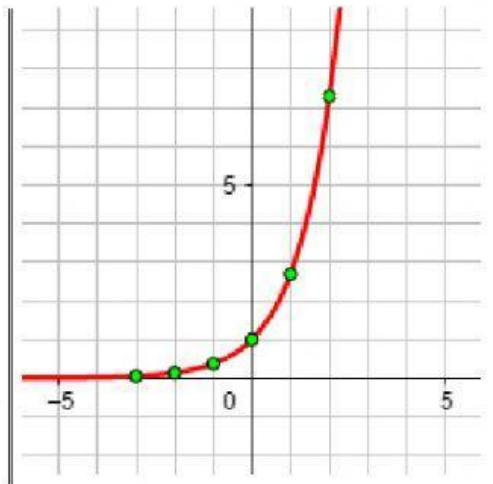
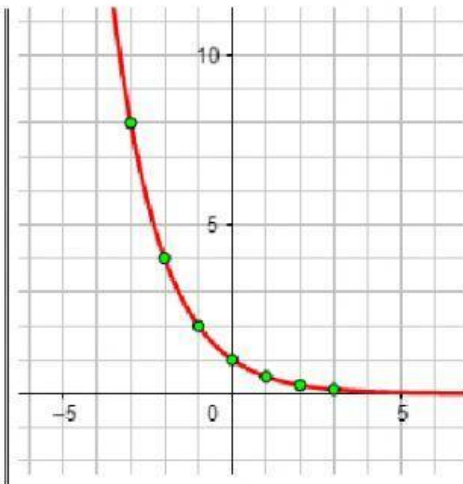
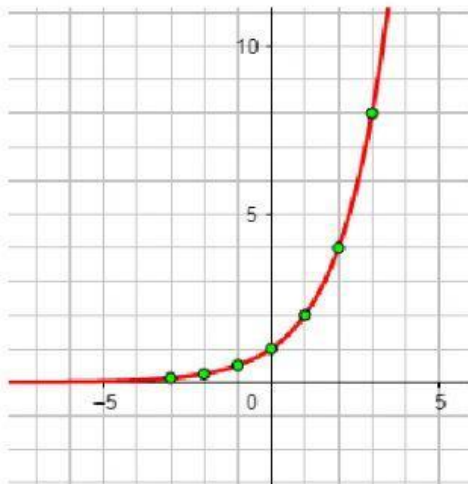
Función exponencial

1. Completa los espacios en blanco con los datos correctos, para desarrollar la tabla que permita graficar las siguientes funciones. Emplea , para la notación decimal.

x	$y = f(x) = 2^x$
-2	
-1	
0	
1	
2	

x	$y = g(x) = \left(\frac{1}{2}\right)^x$
-2	
-1	
0	
1	
2	

2. ¿Cuál de las siguientes gráficas corresponde a $f(x) = 2^x$?



3. ¿Cuál de las siguientes gráficas corresponde a $f(x) = g(x) = \left(\frac{1}{2}\right)^x$?

