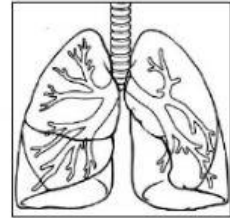
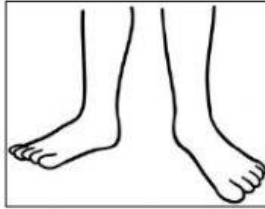




1. Reconoce y marca los órganos que forman parte del tronco:



2. Escribe Verdadero (V) o Falso (F) según corresponda:

A. Los hombros, brazos y manos son partes de las extremidades superiores. ()

B. El estómago se encuentra en el tórax. ()

3. La digestión inicia en:

El esófago

El estómago

La boca

4. Marca los alimentos que son de origen vegetal:

leche

zanahoria

uva

5. Marca los recursos no renovables:

agua

carbón

petróleo

6. Animal que nace por medio de huevos:

vivíparos

ovíparos

mamíferos

7. Animales que comen verduras y a otros animales:

carnívoros

omnívoros

herbívoros

8. Animales que tienen columna vertebral y huesos:

vertebrados

invertebrados

carnívoros


9. ¿Dónde se fabrica el alimento de las plantas?

tallo

hojas

raíz

10. ESCRIBE LAS PARTES DE LA PLANTA



11. El planeta más cercano al sol es:

Tierra

Mercurio

Marte

12. El movimiento de la Tierra sobre su propio eje se llama

Y dura

horas.

13. El movimiento de rotación produce:

Las estaciones

El día y la noche

meses