

Mandarin Chinese 1 Unit Test ---- Numbers

第二部分 写作 20%

Part II: Writing 20%

Name _____ Period _____

一. 请填入缺失的数字 (5 points)

















Please fill in blank boxes with missing numbers .

十一	十二	十三		十五
二十五	二十六		二十八	二十九
三十三	三十四	三十五	三十六	
	四十六	四十七	四十八	四十九
五十四		五十六	五十七	五十八
六十一		六十三	六十四	六十五
七十	七十一	七十二	七十三	
八十三	八十四	八十五		八十七
八十九		九十一	九十二	九十三
九十四		九十六	九十七	九十八

二、请相应的空格里写出包含给出笔画的例字。

(8 points)

Please type at least one example character that includes the presented stroke in the box after each of them.

汉字笔画 strokes	例字 example characters including the presented stroke	汉字笔画 strokes	例字 example characters including the presented stroke
			
			
			
			
			
			
			
			

三、把下面的数学算式用正确的汉字写出。

(7 points)

Rewrite the following math equation in full sentences in Chinese characters.

数学算式 (math equation)	中文 (Chinese)
$5+8=13$	五加八等于十三
$6\times 5=30$	
$20-6=14$	
$56\div 7=8$	
$32\div 16=2$	
$15\times 6=90$	
$65-40=25$	
$84-36=48$	
$77+11=88$	
$5-3=2$	
$9\times 8=72$	

	5 STRONG	4 GOOD	3 FAIR	2 WEAK	1 POOR	0 UNACCEPTABLE
Topic						
Organization						
Vocabulary						
Accuracy						
Total						