



التاريخ: / ٢٠٢١  
ورقة مراجعة: (١)

الحاسوب

الاسم: .....  
الصف: السادس ( )  
عدد الصفحات: ٢

١- أختار الإجابة الصحيحة فيما يلي :

• الصيغة العامة لكتابة الإجراء في برمجة small basic هي:

• نتيجة تنفيذ التعليمات البرمجية التالية :

Turtle.Move(100)

Turtle.Turn(-60)

• لانعطاف السلحفاة نحو اليسار بمقدار ٩٠ درجة نختار التعليمة البرمجية :

• الصيغة العامة لخاصية تحديد لون الخلفية في نافذة الرسومات:

• تستخدم الصيغة "العنوان" GraphicsWindow.Title = ل:

٢- ما نتيجة تنفيذ التعليمات البرمجية التالية :

```
GraphicsWindow.BackgroundColor = "black"
```

```
GraphicsWindow.PenColor = "pink"
```

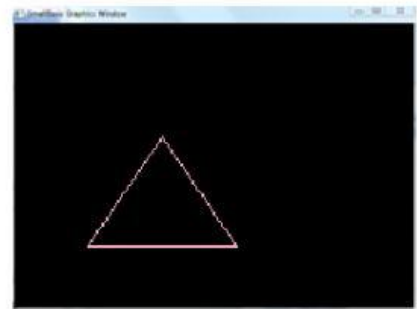
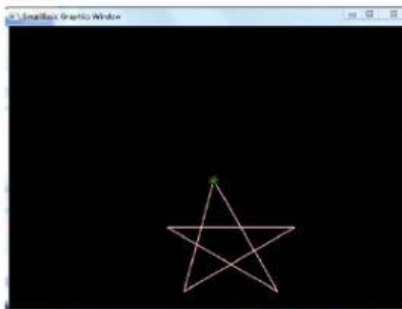
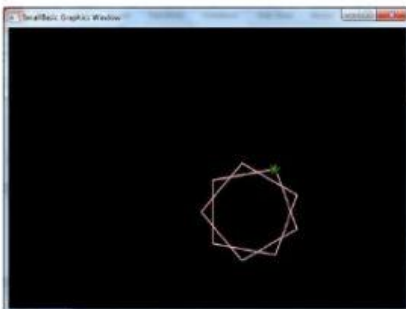
```
Turtle.Speed = (12)
```

```
For i=1 To 10
```

```
    Turtle.Turn (80)
```

```
    Turtle.Move (100)
```

```
EndFor
```



٣- تأملي الشكل التالي ثم أجبني عن الأسئلة التالية :



- ١- ما اسم البرنامج المستخدم في الشكل السابق ؟ \_\_\_\_\_
- ٢- ما اسم العرض ؟ \_\_\_\_\_
- ٣- ما عدد الشرائح الكلي في العرض ؟ \_\_\_\_\_
- ٤- ما اسم الخط المستخدم في طباعة العنوان و ما هو حجمه ؟ \_\_\_\_\_
- ٥- لإضافة حركة مخصصة لعناصر الشريحة نختار تبويب \_\_\_\_\_
- ٦- لإضافة قصاصة فنية إلى الشريحة نختار تبويب \_\_\_\_\_
- ٧- يشير الرقم ١ إلى شريط \_\_\_\_\_ والرقم ٢ إلى شريط \_\_\_\_\_
٩. يشير الرقم ٣ إلى \_\_\_\_\_ والرقم ٤ إلى أداة \_\_\_\_\_