



Cuánto aprendí?

1. Escribe el número:

8 5 0 \rightarrow _____

8 6 7 \rightarrow _____

2. Realiza las operaciones.

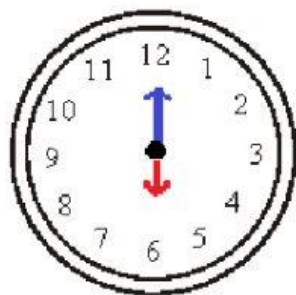
$$\begin{array}{r} 325 \\ + 315 \\ \hline \end{array}$$

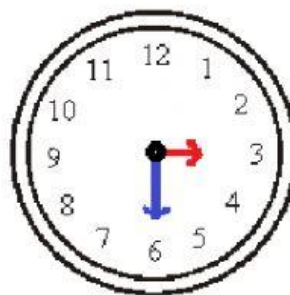
$$\begin{array}{r} 427 \\ + 313 \\ \hline \end{array}$$

$$\begin{array}{r} 786 \\ - 435 \\ \hline \end{array}$$

$$\begin{array}{r} 827 \\ - 582 \\ \hline \end{array}$$

3. Escribe debajo del reloj, qué hora es.





4. Lee y une.

novecientos.

• 8 7 9

ochocientos cincuenta.

• 9 0 0

novecientos catorce.

• 8 5 0

ochocientos setenta y nueve.

• 9 1 4

5. Halla el doble de:

$$271 = \text{cloud shape}$$

$$: 120 = \text{cloud shape}$$

6. Lee con atención y marca con X la respuesta correcta:

Verónica tiene 50 nuevos soles y compra un reloj de pared de 15 nuevos soles. ¿Cuánto es su vuelto?

a) 45 nuevos soles.

b) 65 nuevos soles






c) 35 nuevos soles

D	U
<input type="checkbox"/>	<input type="checkbox"/>
<input type="checkbox"/>	<input type="checkbox"/>
<input type="checkbox"/>	<input type="checkbox"/>

☐

Completa el gráfico de barras con la información correspondiente y responde a las preguntas.

MASCOT A	conteo
Perro	
Gato	
Pájaro	
Pez	
Hámster	

5					
4					
3					
2					
1					
	Hámster	Gato	Perro	Pez	Pájaro
					

1. ¿Qué animal es el más popular?

2. ¿Qué animal es el menos popular?

3. ¿A cuántos niños les gustan más los gatos que los pájaros?

4. ¿A cuántos niños les gustan más los perros que los hámsters?

5. ¿Qué animal solo le gustó a un niño?

Relaciono cada objeto con el dinero que necesito para comprarlo.

