

Trabajo en clase

Complete

Los polígonos regulares son aquellos que sus lados y ángulos son _____ entre sí.

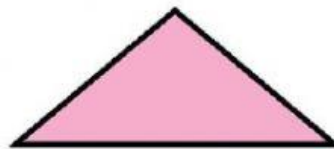
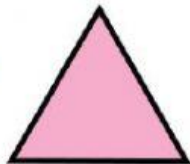
Los polígonos irregulares son aquellos que sus lados y ángulos son _____.

Igual



Diferente

Colocar una R si es un polígono regular y una I, si es un polígono irregular.


**TRIÁNGULO
(3 LADOS)**



**CUADRILÁTERO
(4 LADOS)**



**PENTÁGONO
(5 LADOS)**



**HEXÁGONO
(6 LADOS)**

