

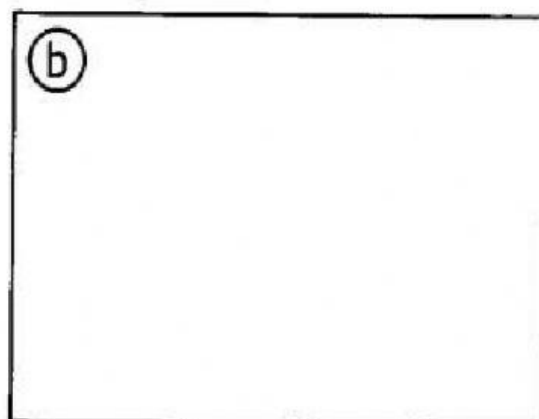

 Agora, substitua as colunas e linhas pedidas pelos seus respectivos números e faça as subtrações, registrando no quadro correspondente.

- a) Linha 8 com coluna 8 — linha 3 com coluna 6.
- b) Linha 6 com coluna 7 — linha 2 com coluna 3.
- c) Linha 4 com coluna 2 — linha 1 com coluna 3.
- d) Linha 7 com coluna 9 — linha 5 com coluna 7.



 Encaixe, na cruzadinha, os números pedidos.

- a) Uma centena e meia.
- b) 7 centenas, 2 dezenas, 7 unidades.
- c) 8 dezenas e 7 unidades.
- d) 8 centenas, 7 dezenas, 5 unidades.
- e) 7 centenas e meia.
- f) Oito centenas.

