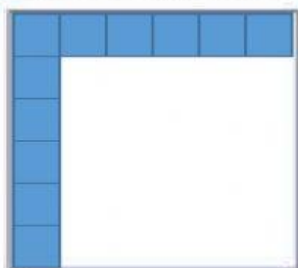


### EVALUACIÓN DE DESARROLLO DEL PENSAMIENTO 1<sup>ER</sup> PARCIAL DEL 2<sup>DO</sup> QUIMESTRE

NOMBRES: \_\_\_\_\_ APELLIDOS: \_\_\_\_\_  
DATE: 22 /Diciembre/2020 CURSO: 7<sup>mo</sup> EGB

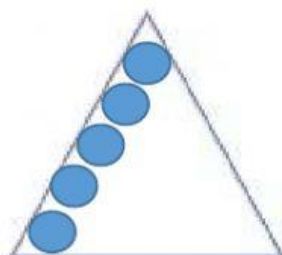
Responde las siguientes cuestiones. Escoge la respuesta correcta.

a) ¿Cuántos cuadrados pequeños caben sin amontonarse en el cuadrado grande?



10    30    49    25    36

b) ¿Cuántos círculos se pueden dibujar en el triángulo?



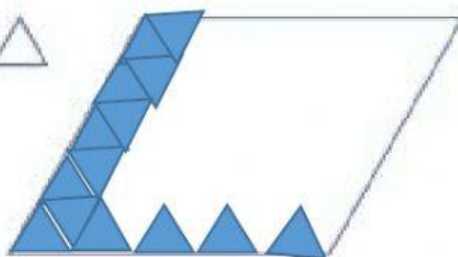
7    15    20    12    16

c) ¿Cuántos cuadrados llenarán el espacio del rectángulo?



128    146    115    96    64

d) ¿Cuántos triángulos pequeños llenarán el paralelogramo?



70    90    60    80    50