

# EVALUACIÓN FINAL DE MATEMÁTICA II



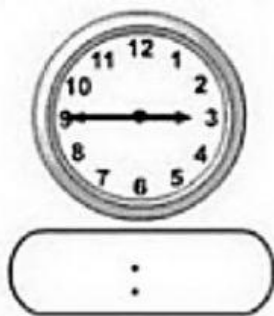
152  
**Claret**  
Arequipa

ESTUDIANTE: .....

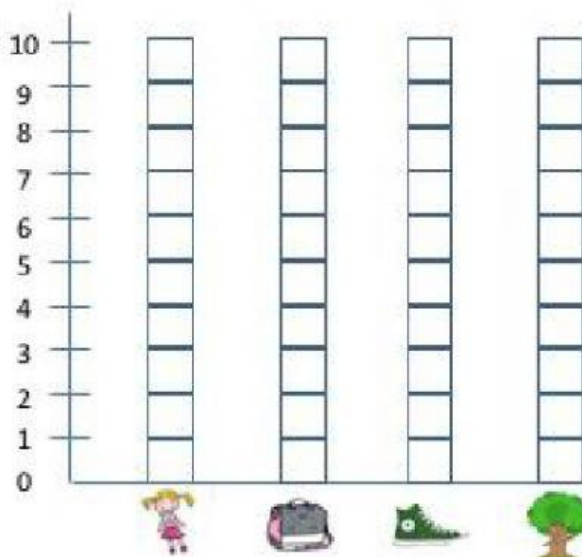

GRADO: PRIMERO SECCIÓN: AMARILLO

PROF: Eugenia Mendoza Flores Fecha: 18/12/2020

1. Observa los siguientes relojes y escribe la hora que corresponde



2. Completa el cuadro de frecuencia con las catidades de objetos y luego arrastra y completa el grafico de barras



OBJETO	CONTEO	TOTAL
	II	
	III	
	III I	
	III	



3. Por navidad hicieron una campaña de donación para niños de Caylloma se recolecto los regalos de la municipalidad y de la iglesia como muestra en el cuadro Completa cuantos regalos compraron cada institución y responde las preguntas.

Cada  = 20

Institución	Regalos	Total
Municipio	    	
Iglesia	  	
Total de regalos		

¿Qué institucion donó mas regalos? .....

¿Cuántos regalos donó la iglesia? .....

4. Observa las imágenes y escribe si es posible – imposible o seguro según corresponda

Sacar una bola verde




Sacar una bola verde




Sacar una bola verde




5. Si sacas sin mirar un carrito de juguete al azar. ¿Qué color tiene menos probabilidad de sacar? .....

