

Nama:

No absen:

TUGAS

Jodohkanlah pernyataan A dengan pernyataan B dengan menghubungkan garis antara pernyataan A dan B!

Pernyataan A

1. Perhatikan puisi dibawah ini!

Kata Ayah

Menjadi dokter itu,
Pekerjaan mulia
Berseragam warna putih
Dokter selalu ramah
Ketika melayani pasien
Judul puisi tersebut yang tepat ialah...

2. Perhatikan puisi dibawah ini!

Judul: Menyesal

Pagiku hilang sudah melayang
Hari mudaku sudah pergi
Sekarang petang datang membayang
Batang usiaku sudah tinggi
Aku lalai di hari pagi
Beta lengah dimasa muda
Kini hidup meracuni hati
Miskin ilmu miskin harta
.... (A. Hasyim)

Maksud bait kedua puisi tersebut adalah

3. Alamku ini

Awan bergerak
seiring waktuku yang kerontang
angin berdiri menepi
sejenak beri kesejukan
kuda berlari terkikik
tinggal jejak kaki
di antara rumputan misteri
alamku ini memang begini
dapat dipastikan perubahan yang terhenti
latar suasana sesuai dengan puisi diatas
yaitu....

4. Puisi 1

terlalu banyak janji tak bisa ditunaikan
terlalu banyak harapan terhamparkan
daun-daun berserakan tak tersapu
dan angin pun pergi entah ke mana
yang berdiri di sini hanya panorama kediaman

Puisi 2

karena mendung tergeser dari langit
Tundalah kantukmu barang sejam
Mari! Mengurai cahya terang di bukit
Tubuh menggigil dan dingin yang menggigit
Sebelum tiba saatnya
Api pendiang bakal padam
Bakal kehilangan hangatnya bara

Amanat puisi diatas yaitu:

5. Tema puisi: Cita-cita.

Isi puisi yang sesuai dengan tema diatas yaitu...

Pernyataan B

- a. Galau

- b. seseorang yang menyia-nyiakan
masa mudanya sehingga menderita

- c. Kata Ayah

- d. Polwan Paling Pintar

Cita-citaku jadi seorang polwan,
Yang cantik dan juga pintar,
Suka menolong orang
Menjadi pahlawan.

Cita-citaku jadi seorang polwan,
Yang pemberani berantas
kejahatan
Tidak takut pada orang
Berani membela yang benar.

- e. Jangan mengingkari janji dan nikmatilah
anugerah Tuhan

TUGAS 2

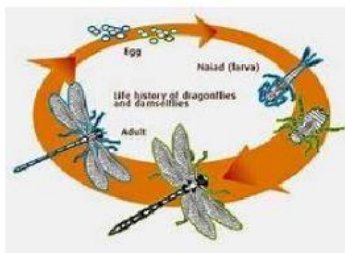
Jawablah pertanyaan dibawah ini dengan klik tombol jawab dan mulailah berbicara sesuai pendapat kalian!

1. Perhatikan pernyataan dibawah ini!

- proses atau masa pengeraman telur ayam akan berlangsung selama 21 hari.
 - Sedangkan pada burung lovebirds proses menetas dan pengeraman berlangsung 22 hari.
- Berdasarkan fakta diatas, Berdasarkan fakta diatas, Jelaskan daur siklus yang sedang dialami oleh kedua hewan tersebut!

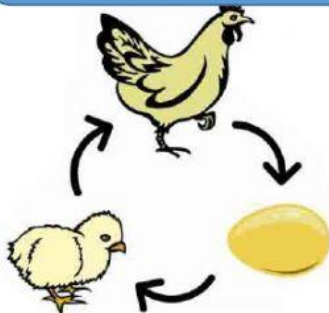
Jawab:

2. Perhatikan daur siklus hewan dibawah ini!



Populasi hewan disamping sekarang ini sudah mulai langka, hal ini dikarenakan manusia mengambil telur capung untuk dijadikan koleksi. Menurut kamu apakah tindakan ini baik? Apa yang harus kalian lakukan agar populasi capung tidak punah (sebutkan 3)?


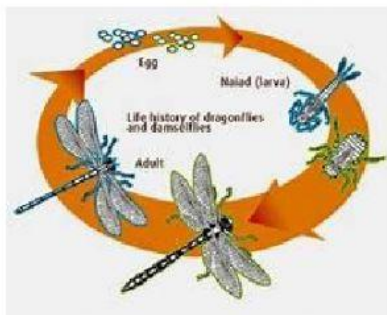
Jawab:



Berdasarkan gambar diatas, jelaskan hubungan antara pertumbuhan hewan dengan hewan tanpa metamorfosis!

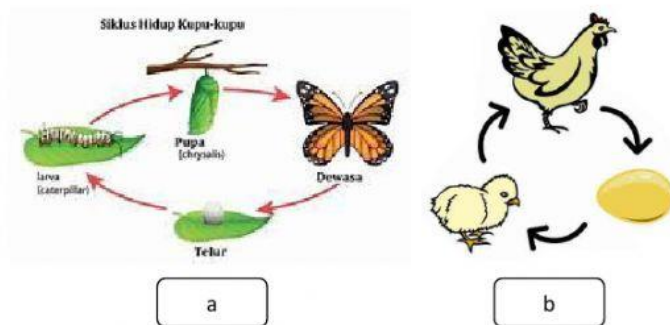
Jawab:

4. Perhatikan daur siklus hewan dibawah ini!



Berdasarkan gambar diatas, jelaskan hubungan antara pertumbuhan hewan dengan daur siklus hewan!

Jawab:



Berdasarkan gambar diatas, jelaskan perbedaan hewan metamorfosis dengan hewan tanpa metamorfosis!

Jawab: