

*RECTAS PARALELAS, SECANTES OBLICUAS Y
PERPENDICULARES EN FIGURAS PLANAS*

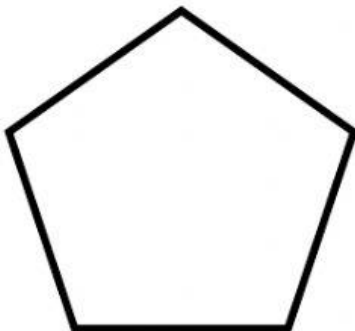
1. Une con líneas



Tiene rectas secantes
oblicuas y paralelas



Tiene rectas secantes
oblicuas



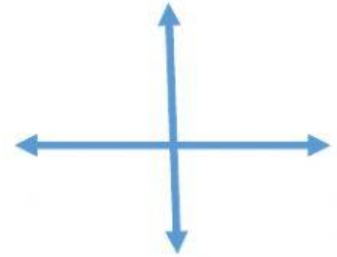

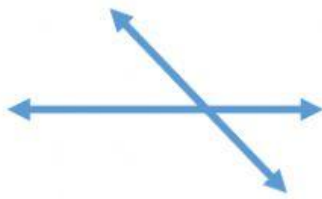
Tiene rectas
perpendiculares y
paralelas

2. Une el nombre correcto de las siguientes rectas.

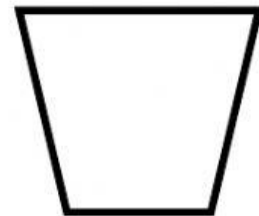

PARALELA

OBLICUA

PERPENDICULAR



3. Observe las siguientes figuras geométricas y contesta v si es verdadero y f si es falso



Un cuadrado está compuesta por rectas paralelas y perpendiculares ()

El triángulo está compuesto por rectas paralelas ()

El trapecio tiene un par de rectas paralelas ()

El trapecio tiene rectas perpendiculares ()

