



EVALUACIÓN DE CONOCIMIENTOS SOBRE TECNOLOGÍA E INFORMÁTICA
GRADO: OCTAVO 8° - TEACHER: SIXTAROSA PACHECO

NOMBRES Y APELLIDOS DEL ESTUDIANTE: _____

M I C R O S O F T E X C E L

Selecciona el nombre correcto de cada celda.

1

	A	B	C	D	E
1					
2					
3					
4					
5					
6					
7					
8					
9					
10					
11					
12					
13					
14					

2 Las COLUMNAS se nombran con:

- Marca con una X La respuesta de la siguiente pregunta - ¿Las FILAS se nombran con LETRAS?

VERDADERO

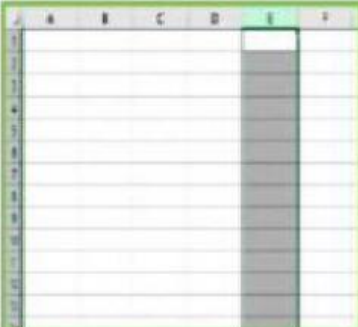

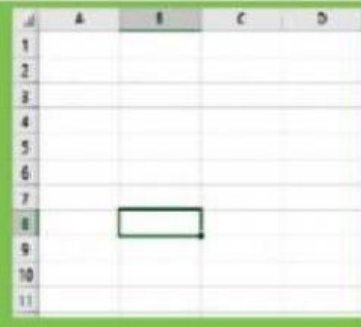
☐

FALSO

☐

3

Observa las siguientes imágenes y **escribe** dentro del recuadro cuál pertenece a: **Celda, Columna, Fila.**


4 COLOCA AL FRENTE DE CADA ICONO DEL **PAQUETE DE OFFICE** SU RESPECTIVO NOMBRE:






5

COLOCA **SI** AL SIGNO, CON EL QUE INICIAS UNA FORMULA EN EXCEL



6

1. Escribe cada tipo de energía debajo de la imagen que mejor le corresponda.



7

DEFINE CON TUS PROPIAS PALABRAS QUE ES TECNOLOGÍA:

8

UNE LOS SIGUIENTES ELEMENTOS DE ACUERDO A SU CONDICIÓN (SI ES INVENTO O DESCUBRIENDO):

INVENTO

DESCUBRIMIENTO

LA PENICILINA

EL AUTOMÓVIL

EL FUEGO

**UN HUESO DE
DINOSAURIO**

EL RELOJ

EL CELULAR

9

ARRASTRA CADA UNO A SU LUGAR

Efectos de la electricidad



Energía
sonora

Energía
calorífica

Energía
luminosa

Energía
cinética

10

QUE ES UNA CELDA:

- Es la unión de dos o más filas.
- Es la intersección de una fila con una columna.
- Es una columna.