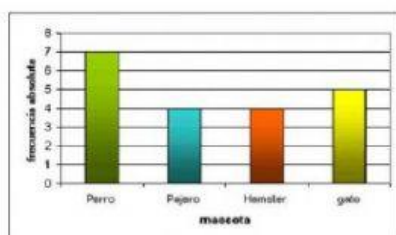
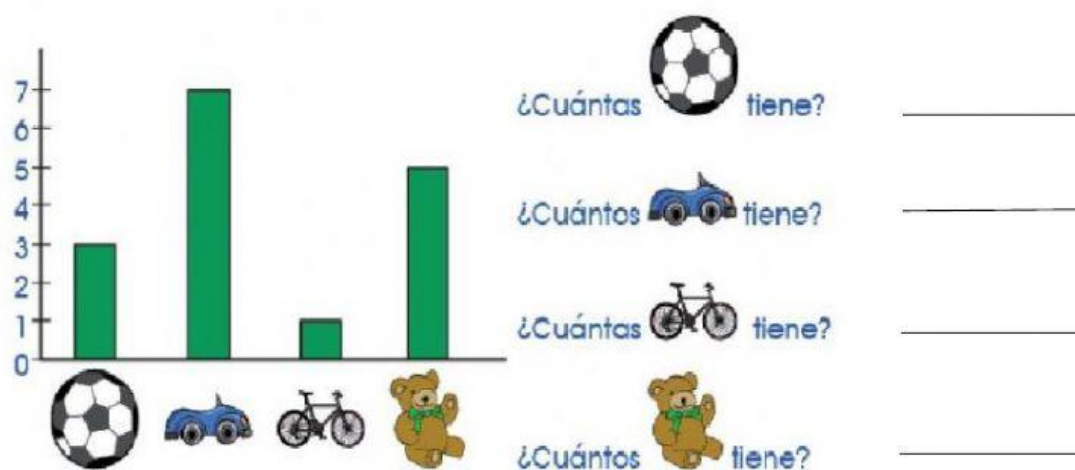


## DIAGRAMA DE BARRAS



Un **DIAGRAMA DE BARRAS** es un gráfico que se utiliza para representar los datos obtenidos en una encuesta mediante rectángulos cuya altura corresponde a la cantidad de respuestas por cada opción

- **OBSERVAR EL GRÁFICO DE BARRAS QUE HIZO JULIÁN PARA CONTAR LOS JUGUETES QUE TIENE, COMPLETA ESCRIBIENDO EL NÚMERO FRENTE A CADA PREGUNTA.**




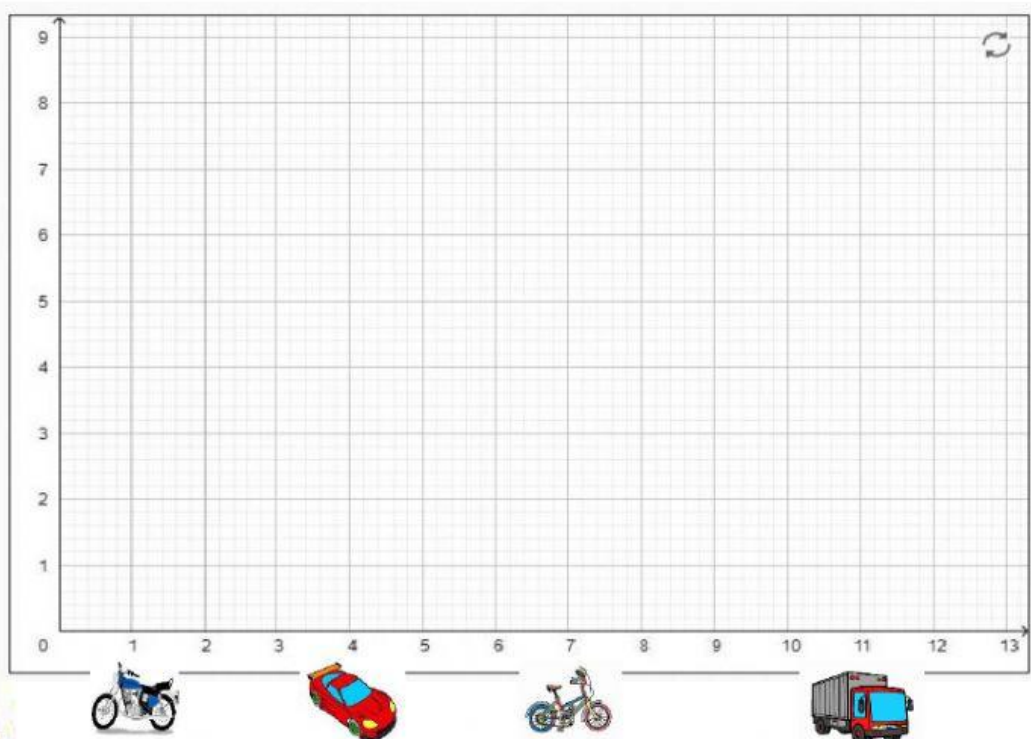


- **LEE LA INFORMACIÓN.**

Miriam y Andrea viven cerca de una avenida, para pasar el tiempo durante el aislamiento obligatorio se sentaron frente a su ventana y contaron durante una hora los vehículos que pasaron, obteniendo la siguiente información:

VEHÍCULOS	CANTIDAD
Bicicletas	7
Motos	4
Autos	9
Camiones	6

- AHORA TE TOCA ARMAR TU GRÁFICO DE BARRAS CON LOS DATOS DE LA TABLA, ARRASTRA LA REGLETA Y ESCRIBE LA CANTIDAD CORRESPONDIENTE.



➤ RESPONDA LAS SIGUIENTES PREGUNTAS TENIENDO EN CUENTA LOS RESULTADOS Y TU GRÁFICO.

a.- Cuál vehículo fue el que paso en mayor cantidad? \_\_\_\_\_

b.- Qué vehículo paso en menor cantidad por la ventana? \_\_\_\_\_

c.- Cuántas Bicicletas pasaron? \_\_\_\_\_

d.-Cuántos camiones pasaron? \_\_\_\_\_

e.- En total pasaron \_\_\_\_\_ vehículos.

