

UNIDAD EDUCATIVA BENJAMÍN FRANKLIN
TALLER ONLINE - 2DO QUIMESTRE - 1ER PARCIAL

Name: _____ Date: 21 - 12 - 2020
Subject: Matemática Teacher: Miss Ainee Olvera G.
Course: Segundo de Básica Theme: Descomposición de números



Cuenta las decenas y completa el cuadro con el número de decenas y unidades. Luego, escribe el número en letras.

a. 1 decena unidades

D	U
1	5

b. 2 decenas unidades

D	U
	8

c. 3 decenas unidades

D	U
	4





d. 3 decenas unidades

D	U
	9

e. 4 decenas unidades

D	U
	5

Cuenta las decenas y compara el cuadro con el número de decenas y unidades. Luego escribe el número en letras.

a. 	<input type="text"/> decenas	<input type="text"/>
	<input type="text" value="5"/> unidades	
b. 	<input type="text"/> decenas	<input type="text"/>
	<input type="text"/> unidades	
c. 	<input type="text"/> decenas	<input type="text"/>
	<input type="text"/> unidades	
d. 	<input type="text"/> decenas	<input type="text"/>
	<input type="text"/> unidades	