


ÁREAS y PERÍMETROS



Nombres y apellidos:

1. Halla el área y el perímetro de cada figura:

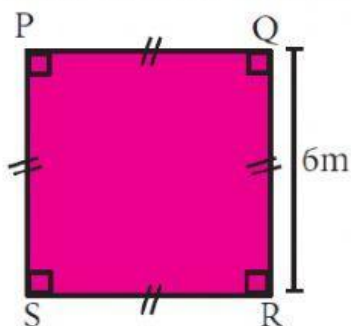


Área:
Perímetro:

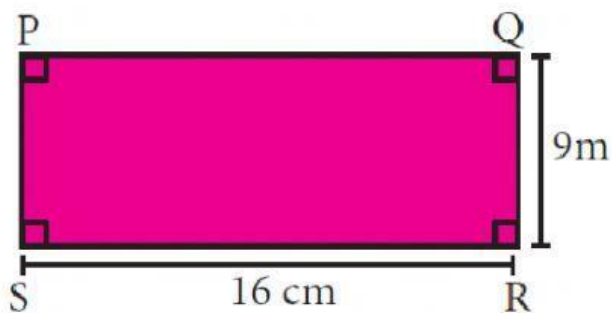


Área:
Perímetro:

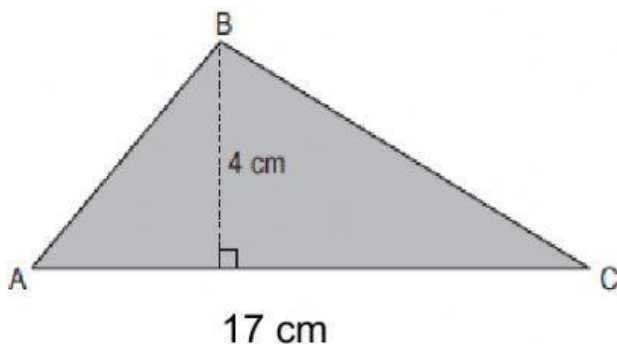
2. Halla el área de cada figura:



Área: m^2

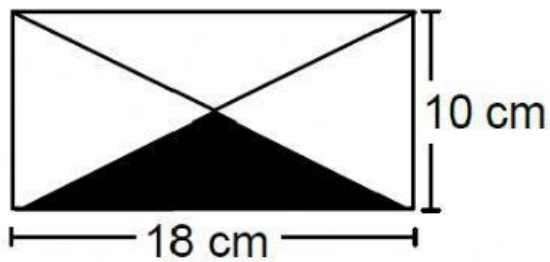


Área: m^2

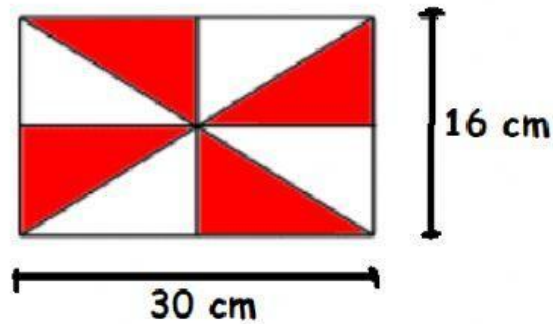


Área: cm^2

3. Halla el área coloreada:



Área: cm^2



Área: cm^2

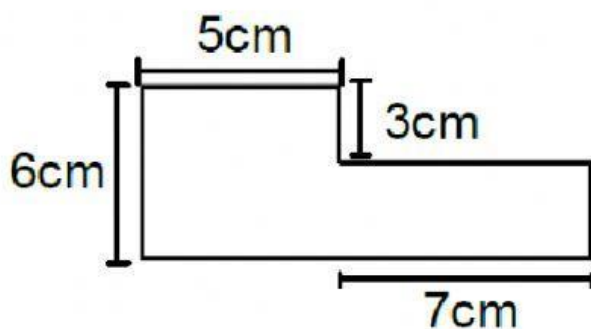
4. El perímetro de un cuadrado es 20 cm. ¿Cuánto mide su lado?

Respuesta: El lado mide cm

5. La base de un rectángulo mide 14 cm y su altura mide la mitad de la base. ¿Cuál es su perímetro?

Respuesta:

6. Halla el perímetro de la figura:



El perímetro es: cm