

## EVALUACIÓN DEL PRIMER PARCIAL SEGUNDO QUIMESTRE

### Datos informativos

Nombre:

Fecha:

Curso: 3°

Paralelo: "A" / "B"

Asignatura: MATEMÁTICA

Docentes: Patricia Alvarado / Genoveva Chica

### 1.- COMPLETA LAS ALTERNATIVAS USANDO LOS NOMBRES DE CALLES, LINEAS PARALELAS O PERPENDICULARES.

- La avenida Palmeras y calle Jirón Bolívar son

\_\_\_\_\_

- La avenida perpendicular de la calle Jirón Ica es

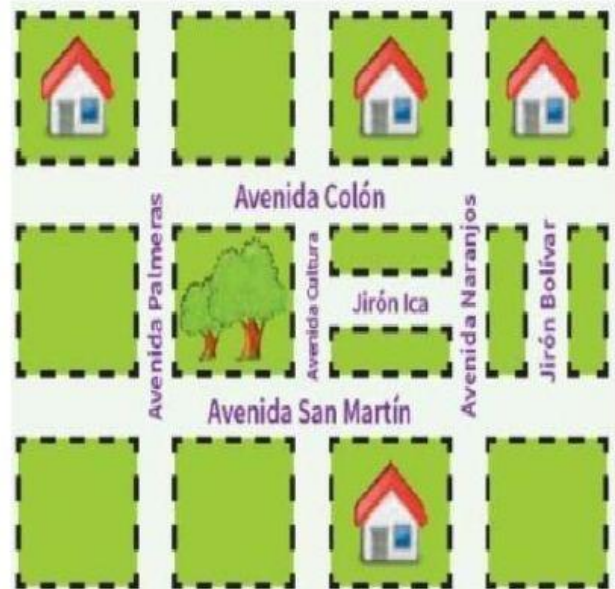
\_\_\_\_\_

- La avenida Colon es paralela a la avenida

\_\_\_\_\_

- La avenida Cultura y la avenida Naranja son

\_\_\_\_\_



### 2.- SELECCIONE LA OPCION CORRECTA EN CADA CASO.



libra    kilo



libra    kilo





libra    kilo

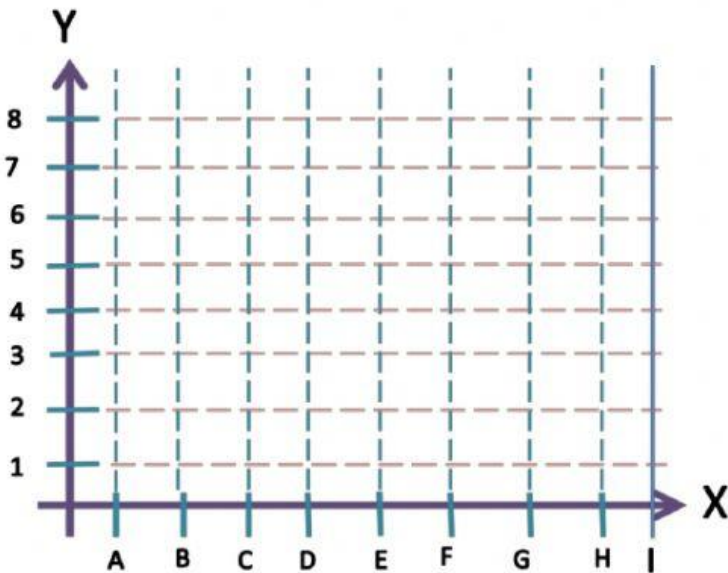




libra    kilo

3.- OBSERVA LAS IMÁGENES, LUEGO UBICA LA PARTE QUE LE FALTA A CADA FIGURA PARA QUE SEA SIMETRICA



4.- UBICA LOS OBJETOS EN EL PLANO SEGÚN LAS COORDENADAS INDICADAS.



-  (E, 2)
-  (A, 4)
-  (G, 8)
-  (C, 6)

5.- RESUELVE LAS OPERACIONES Y SELECCIONA LA RESPUESTA CORRECTA.

SUMA			
	C	D	U
	○	○	
	5	8	7
+			
	6	3	4

- a- 1.212
- b- 1.122
- c- 1.221
- d- 2.121

6.- EFECTUA LAS OPERACIONES COMBINADAS, LUEGO UNE LAS ETIQUETAS QUE TIENEN IGUAL RESULTADO.

$$(583 + 206) - 402 =$$

$$(472 - 150) + 156 =$$

$$(754 + 145) - 421 =$$

$$(503 - 201) + 85 =$$

7.- RELACIONA CADA ADICION Y MULTIPLICACION CON EL RESULTADO CORRESPONDIENTE.

ADICION	RESULTADO	MULTIPLICACION
3+3+3+3+3	28	5 X 3
8+8	27	2 X 8
7+7+7+7	15	4 X 7
9+9+9	16	3 X 9
1+1+1+1+1+1	12	6 X 1
6+6	6	2 X 6

8.- DICTADO DE CANTIDADES EN NUMEROS.


9.- DESARROLLA LA RESTA Y SELECCIONA LA RESPUESTA CORRECTA.

SUMA				
		C	D	U
		9	4	2
-				
		3	6	8

a- 574

b- 475

c- 547

d- 457