

# MATEMÀTICAS

I. Escribe en el rectángulo la hora correcta que marca las manecillas de cada reloj.
















II. Escoge la respuesta correcta de cada adición.



$4 + 3$



$9 + 1$



$7 + 2$

7

5

9

9

10

5

7

8

9

III. Sumemos sin dificultad.

$$\begin{array}{r} 62 \\ + 25 \\ \hline \end{array}$$

$$\begin{array}{r} 74 \\ + 25 \\ \hline \end{array}$$

$$\begin{array}{r} 58 \\ + 31 \\ \hline \end{array}$$

$$\begin{array}{r} 65 \\ + 24 \\ \hline \end{array}$$


#### IV. Restemos sin dificultad.

$$\begin{array}{r} 65 \\ - 24 \\ \hline \square \square \end{array}$$

$$\begin{array}{r} 42 \\ - 21 \\ \hline \square \square \end{array}$$

$$\begin{array}{r} 58 \\ - 35 \\ \hline \square \square \end{array}$$

$$\begin{array}{r} 68 \\ - 54 \\ \hline \square \square \end{array}$$





V. Observa cada elfo con su división, sigue el laberinto, selecciona de la lista la respuesta. Completa el cuadro de las multiplicaciones.



$\div 2$

$2 \times 5 = \square$

$2 \times \square = 12$

$2 \times 4 = \square$

$2 \times \square = 18$

$2 \times \square = 20$

# Leyendo un calendario

VI. Observa el siguiente mes y responde las preguntas.



- a. ¿Qué día es el 25 de diciembre? \_\_\_\_\_
- b. ¿Qué fecha es el último martes de diciembre? \_\_\_\_\_
- c. ¿Cuántos días tiene este mes? \_\_\_\_\_
- d. ¿Qué día de la semana se termina el mes? \_\_\_\_\_

e. Anais cumple años el 27 de diciembre y estamos a 15 de diciembre. ¿Cuántos días faltan? \_\_\_\_\_

**VII. Escoge la casilla donde está la figura correcta.**

¿Cuál de estas figuras NO está formada por ninguna línea recta?



1.

☐

2.

☐

3.

☐

4.

☐

¿Cuál de estas figuras es una curva?



1.

☐

2.

☐

3.

☐

4.

☐






¿Cuál de estas figuras es una línea recta?



1.

☐

2.

☐

3.

☐

4.

☐

¿Cuál de estas líneas NO es abierta?



1.

☐

2.

☐

3.

☐

4.

☐

VIII. Escucha atentamente cada número y escríbelo en el recuadro.

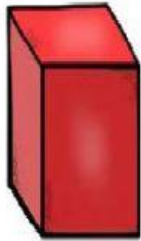
	<input type="text"/>
	<input type="text"/>
	<input type="text"/>
	<input type="text"/>
	<input type="text"/>
	<input type="text"/>
	<input type="text"/>
	<input type="text"/>
	<input type="text"/>
	<input type="text"/>
	<input type="text"/>



**IX. Correlaciona cada figura geométrica con el objeto que corresponda.**



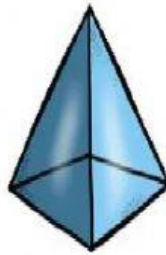
cono




cubo



cilindro



pirámide



esfera



triangular

