

ACTIVIDAD N°6 LOS ÁNGULOS Y SU CLASIFICACIÓN

1. Elija la respuesta correcta de entre las siguientes opciones:

- Un ángulo está formado por:
- El punto de origen de los ángulos se llama:
- La unidad de medida de los ángulos es el:
- Los ángulos se clasifican según su:

2. Una con flechas según corresponda:

Ángulo recto

mide 0°

Ángulo cóncavo

mide 180°

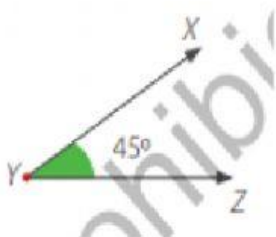
Ángulo llano

mide más de 180°

Ángulo nulo

mide 90°

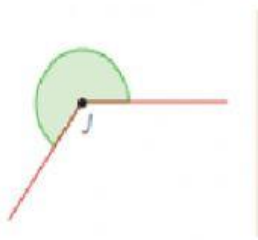
3. Seleccione el nombre de cada ángulo correctamente:



Ángulo obtuso

Ángulo convexo

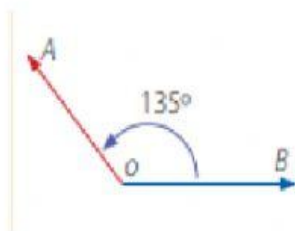
Ángulo agudo



Ángulo recto

Ángulo cóncavo

Ángulo nulo

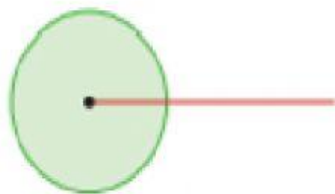


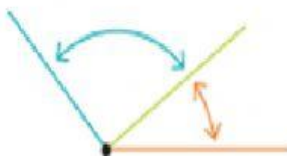
Ángulo obtuso

Ángulo completo

Ángulo consecutivo

4. Arrastre y suelte las respuestas correctas según correspondan:





Ángulo consecutivo

miden

tienen el

360°

vértice y lado

común

Ángulo completo