
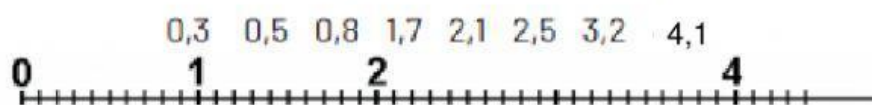


ATIVIDADES

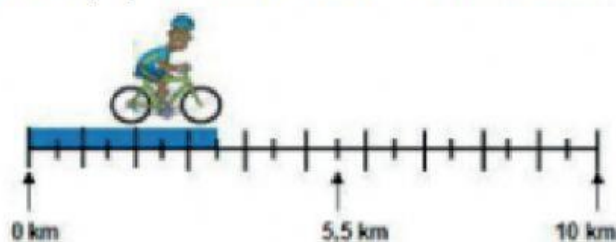
1 – Escreva em cada círculo o número que corresponde a cada seta.



2 – Desenhe uma reta numérica e coloque os numerais no lugar correto:



3 – Este ciclista percorreu o espaço mostrado abaixo. Qual foi a distância percorrida por ele?



4 – O número decimal marcado na reta numérica é:



5 – Escreva os números decimais correspondentes aos pontos indicados pelas letras A, B e C na reta numérica a seguir.



A = _____ B = _____ C = _____