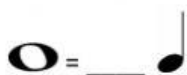
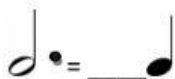


## Equivalencia de figuras:

1) Escribe la cantidad de figuras a las que equivalen:

¿Cuántas **negras** entran en:





2) ¿Cuántas **blancas** entran en:



3) ¿Cuántas **corcheas** entran en: (Recordemos que  = )



4) ¿Cuántas **semicorcheas** entran en: ( Recordemos que  = )

