

EL RÍO

1. EL RÍO. Lee el texto y arrastra las cajas a su frase correspondiente.



Un río es una corriente continua de agua que nace en la montaña por la **acumulación** de **agua de lluvia** o del deshielo y va a **desembocar** a un río, mar o lago.

1. Los ríos que desembocan en el mar se llaman
2. Los ríos que desembocan en otros ríos son los llamados


Ríos Principales

Afluentes

2. FACTORES QUE INTERVIENEN. Lee y une con flechas la palabra que falta en la frase.

Pero **no todos los ríos son iguales**. En ello intervienen **DOS FACTORES**:

- a) ¿De dónde procede el agua de los ríos? De la acumulación de
- b) La mayor o menor acumulación de lluvias viene determinado por lo que llamamos
- c) Los ríos transcurren siempre por las zonas más del terreno.
- d) El terreno por el que transcurre un río es lo que llamamos



RELIEVE

CLIMA

Lluvias / deshielo

bajas

3. ELEMENTOS DE UN RÍO:

a) Primero une con flechas cada definición con su elemento

Terreno hundido por el que corre el agua. ☐

Cantidad de agua que lleva un río. ☐

Recorrido que hace el río desde que nace hasta que desemboca. ☐

En las orillas o **riberas** de los ríos, sus orillas, crecen chopos y olmos ☐

☐ Caudal

☐ Cauce (anchura)

☐ Vegetación de ribera

☐ Curso (longitud)

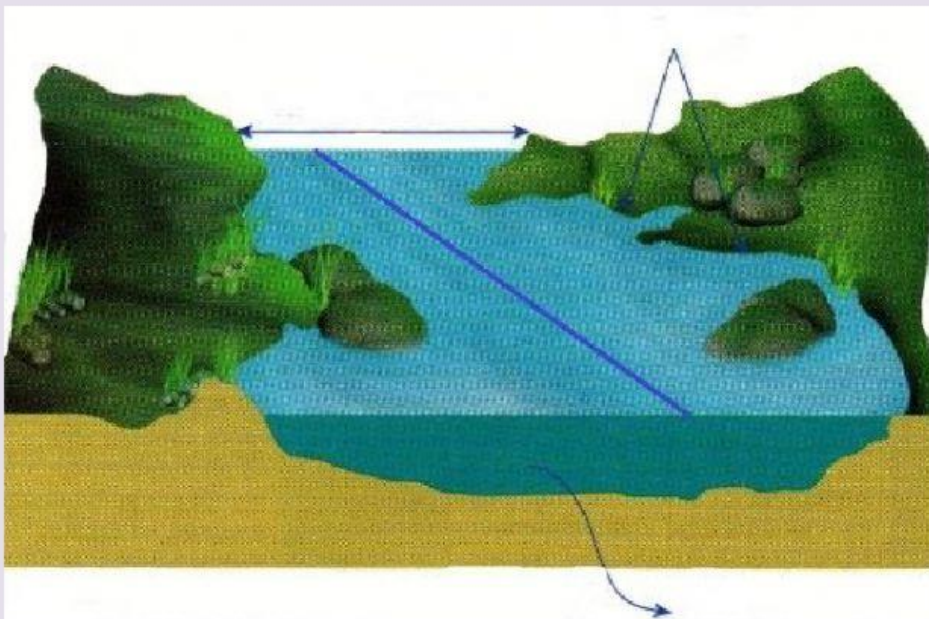
b) Arrastra cada elemento en el lugar que le corresponde

Caudal

Cauce

Curso

Ribera



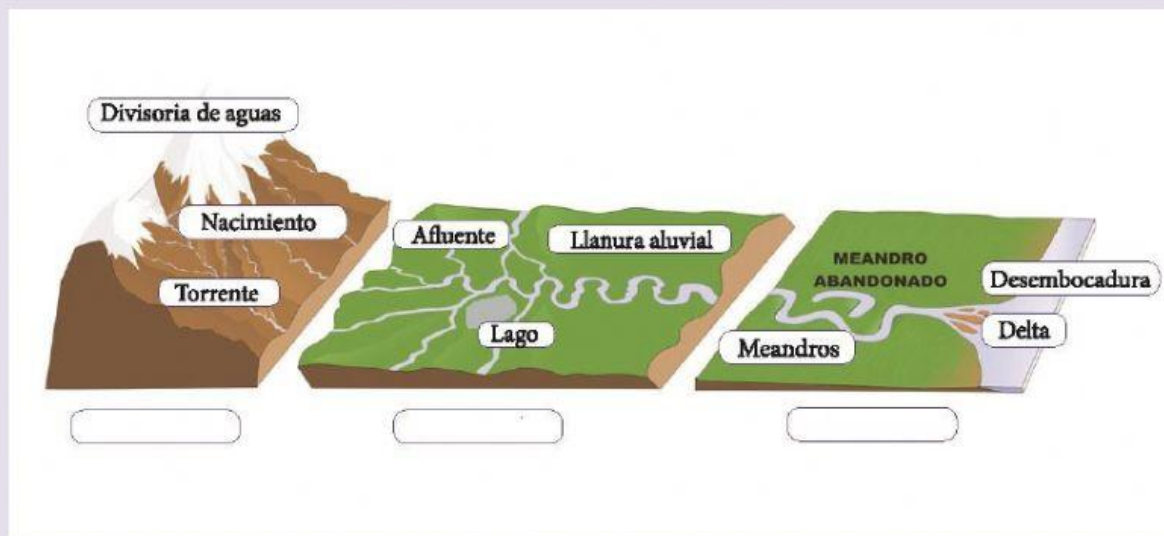
c) Elige la respuesta correcta:

El relieve influye en la longitud de un río, es decir en su . Por tanto, serán cuando las montañas donde nacen están próximas al y largos cuando están alejadas.

El clima, es decir, las lluvias influyen en el . Los ríos que atraviesan zonas donde llueve mucho, tienen un caudal .

4. LAS PARTES DE UN RÍO

a) Selecciona a que parte se corresponde




b) Completa las siguientes frases. Elige la opción correcta

- En su curso alto, los ríos son
- En su curso medio, los ríos son
- En su curso medio los ríos atraviesan
- Los afluentes desembocan en el
- Los ríos principales desembocan en el

5. EL HOMBRE Y EL RÍO. Une cada imagen con su frase.

¿Cómo se representan los ríos en un mapa? Líneas continuas de color azul ☐



Como consecuencia de la escasez de agua en el planeta, el hombre modifica el ciclo normal del río creando embalses que retienen el agua del río para posterior consumo, regadío.... ☐



