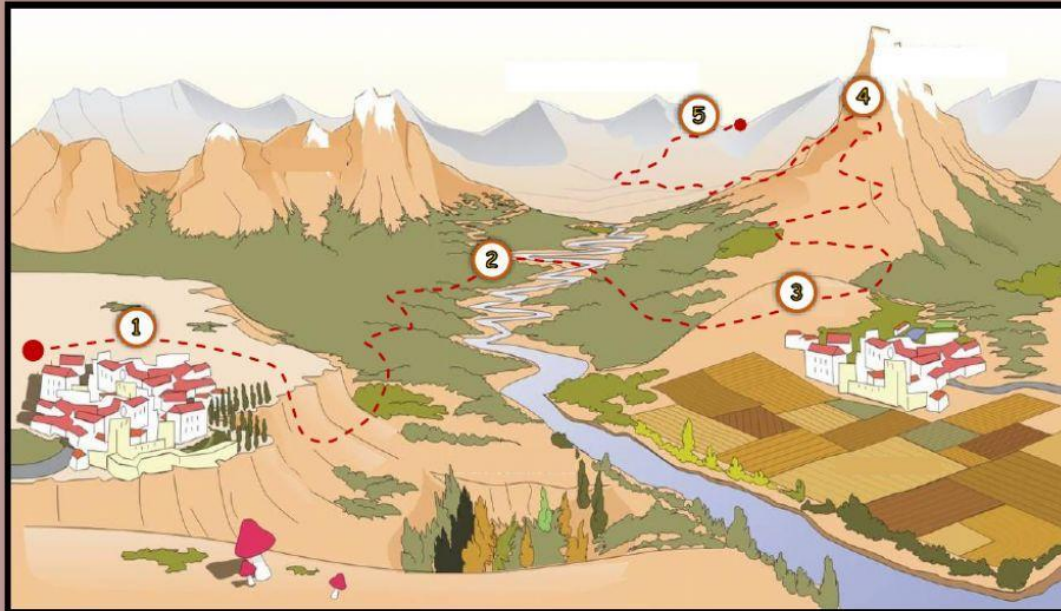


EL ENIGMA DE LOS MAESTROS

Vuestros maestros han decidido plantearte todo un reto a través de una aventura que te llevará por diversos lugares. Sigue las pistas, preguntas e imágenes que te han ido dejando para intentar completar esta aventura. ¡Mucha suerte!



Tú viaje comienza en este lugar no sabes muy bien dónde estás. Sin embargo, viendo el paisaje, eres capaz de diferenciar el relieve y saber si te encuentras en una zona de interior o de costa.




Paisaje de interior.

Paisaje de costa.

Según las pistas que has encontrado tu ruta (línea de color rojo) te lleva a través de distintos lugares. ¿Por qué elementos del relieve pasarás? Escríbelos para no olvidarlos.



En tu búsqueda, encuentras la siguiente fotografía tirada en el suelo, pero ves que las etiquetas que había pegadas en cada lugar se han despegado.... Intenta volver a poner cada una en su lugar, puede que recibas alguna recompensa por ello.



Isla

Península

Golfo

Bahía

Playa


Archipiélago

Istmo

Acantilado

Cabo

Tras tanto caminar, decides hacer una parada en tu viaje y, frente a ti, se extienden unas bellas vistas. Un pequeño niño aparece en ese momento, se sienta a tu lado y, mirando al horizonte te dice



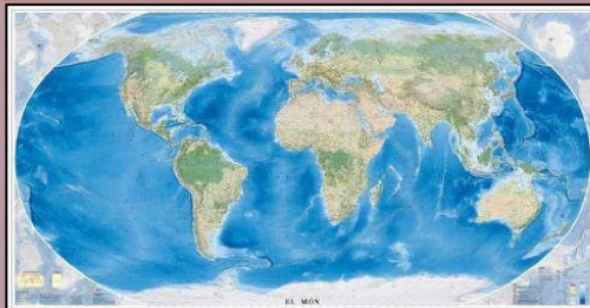
¿Estás de acuerdo con él? ¿Crees que es un paisaje natural o humanizado? Explícale por qué lo sabes.

Paisaje natural

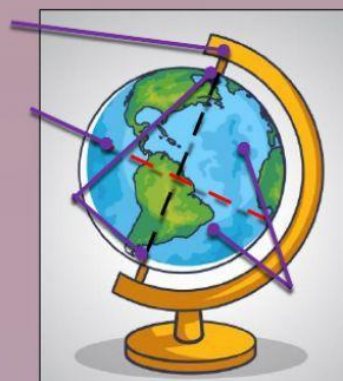
Paisaje humanizado

Tras aclarar a tu pequeño amigo qué tipo de paisaje hay ante vosotros, comenzáis a hablar sobre el deterioro del paisaje provocado por la acción humana. Cuéntale al niño cuáles son las principales consecuencias negativas del ser humano en el medio ambiente y en qué consisten.

Esa noche la decidiste pasar en el pueblo de tu nuevo amigo. Al día siguiente, fuiste a una tienda para comprar algunas cosas que te ayudarán en tu viaje y, viendo los siguientes objetos, decides comprar un planisferio. Selecciona el planisferio.



Tu amigo se ha quedado impresionado con este objeto y, asombrado, te pregunta sobre sus distintas partes. Dile cómo se llaman.



Ahora que tu amigo ha aprendido tanto gracias a ti, te pregunta lo siguiente:

"¿Qué diferencias hay entre un planisferio y un globo terráqueo?"



Con el planisferio en tu poder, puedes continuar tu aventura. Despliegas el mapa y observas dos cosas que te llaman la atención. En primer lugar, los puntos cardinales de la rosa de los vientos están borrados, tendrás que volver a escribirlos. En segundo lugar, observas que tiene unas curiosas edificaciones dibujadas. ¿En qué continente se encuentra cada una?



Consultando el mapa, no puedes evitar hacerte las siguientes preguntas. Reflexionando, eres capaz de responder a todas:























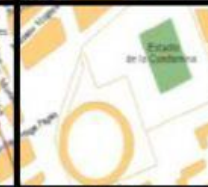










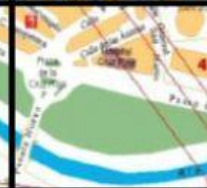


- ¿Qué océano debería cruzar para ir de Europa hasta América?
- ¿Cómo se llama el océano que está al norte de la Antártida?
- Si estoy en Asia y viajo hacia el este, ¿qué océano cruzaría?
- ¿Qué océano está al oeste de Oceanía?

Tu aventura está llegando a su fin y por fin llegas hasta la ciudad a la que se supone que deberías llegar. En la entrada de la ciudad ves estos tres mapas frente a ti. ¿Sabes de qué tipo es cada uno?



En la plaza del pueblo, encuentras un plano donde han quitado y separado unos lugares que debes volver a encajar. ¿Lo conseguirás?

Iglesia	Colegio	Cafetería	Noria	Museo	Estadio
					
B-4	E-5	D-3	A-6	C-1	F-2

A	B	C	D	E	F	
						1
						2
						3
						4
						5
						6